



# آینده فرزندان ما را با هم میسازیم

جهت ارتباط با ما کلیک کنید

پشتیبانی لحظه ای محصولات



ورود به سایت مشق آنلاین



اینستاگرام مشق آنلاین



# مشق آنلاین

شناسه نشر دیجیتال : ۱۳۴۶۶

مشخصات : کتاب دیجیتال با فرمت PDF

یادداشت

خرید و مشاهده مشخصات اثر به طور انحصاری در سایت:

MashghOnline.ir

ناشر دیجیتال مبتنی بر خط و مبتنی بر حامل های رایانه ای

نام کتاب : (کاربرگ مهر ماه کلاس پنجم ابتدایی)

ناشر : مشق آنلاین

صاحب اثر : سید امیر بنی طبا

شناسه ثبت : 397842

کلیه حقوق چاپ و نشر این اثر برای وب سایت مشق آنلاین محفوظ است.

هیچ شخص حقیقی یا حقوقی حق چاپ یا انتشار تمام یا بخشی از این اثر را ندارد.

انتشارات مشق آنلاین دارای مجوز از وزارت فرهنگ و ارشاد اسلامی به شماره ۱۰۶۵۸۶۹۲۹۷۱۱ و پروانه نشر به شماره ۱۳۴۶۶ میباشد.

متخلفین به موجب بند ۵ از ماده ۲ قانون حمایت از ناشران تحت پیگرد قانونی قرار خواهند گرفت.



# نمادها و صلاحیت ها





# کاربرگ‌های

## (مهر ماه)

### کلاس پنجم ابتدایی





### ریاضی: یادآوری چهارم



یکی	هزار	میلیون
۱۲	۹	۳۱۸

۱- با توجه به جدول ارزش مکانی مقابل به سؤالها پاسخ دهید.

الف) با رقم بنویسید.

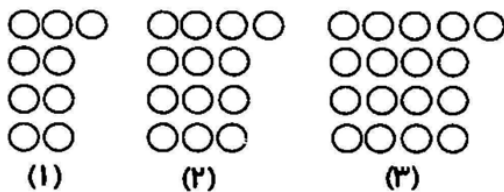
ب) با حروف بنویسید.

ج) بزرگترین رقم در چه مرتبه‌ای قرار دارد؟

د) کمترین ارزش مکانی مربوط به کدام رقم می‌باشد؟


۲- کوچکترین و بزرگترین عدد ۸ رقمی زوج که رقم‌های (۴-۲-۳) در آن به کار رفته باشد را بنویسید.

ک: ..... ب: .....



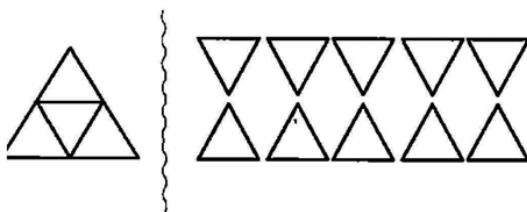
۳- شکل مرحله‌ی دهم الگوی داده شده را رسم کنید.

(۱۰)



۴- حاصل ضرب و تقسیم‌های داده شده را حساب کنید.

۵- عدد مخلوط مربوط به شکل و محور را بنویسید.



۶- حاصل عبارت‌های داده شده را حساب کنید و تا حد امکان ساده کنید.

$$\left(5 \times \frac{6}{50}\right) + \left(\frac{7}{10} - \frac{3}{5}\right) =$$

$$\frac{24}{30} - \frac{2}{5} =$$

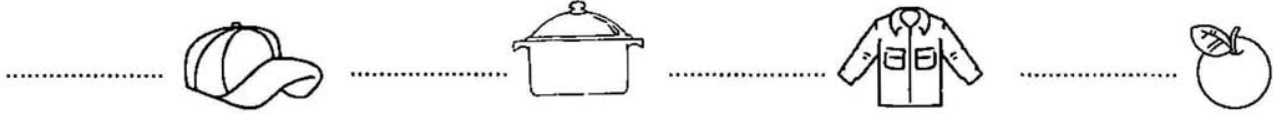




## فارسی: یادآوری کلاس چهارم



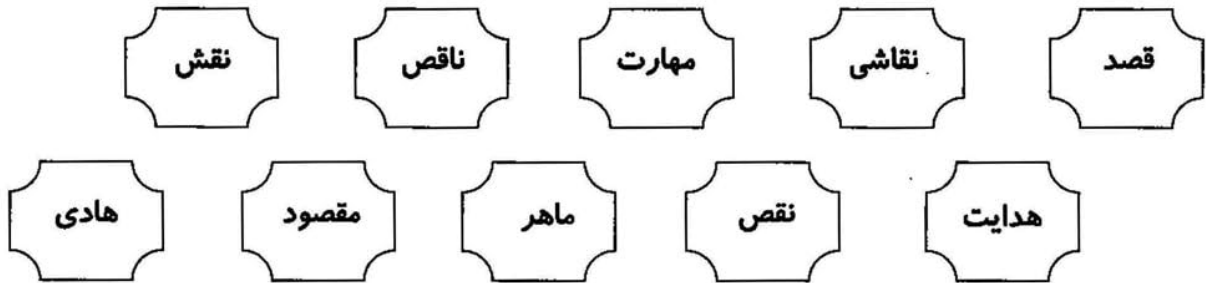
۱- برای هر یک از موارد داده شده یک صفت بنویسید.




۲- مخالف واژه‌های داده شده را بنویسید.

زود ≠ ..... بلند ≠ ..... صعود ≠ ..... کامل ≠ .....

۳- کلمه‌های هم‌خانواده را هم‌رنگ کنید.



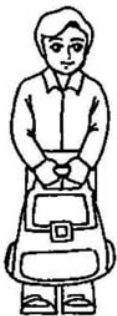
۴- در جاهای خالی یکی از حروف ربط داده شده را قرار دهید.



الف) مریم کفش‌هایش را پوشید ..... به حیاط رفت.  
ب) من امروز به مدرسه نرفته‌ام ..... سرما خورده‌ام.  
ج) لیوان از روی میز به زمین افتاد، ..... شکست.

۵- نمودار جمله‌ی مقابل را رسم کنید.

علی کیفش را آورد.



۶- با توجه به معنی جمله‌ها، کلمه‌ی مناسب را انتخاب کنید.

الف) من با کمک برادرم وسایل و ..... اضافه را به انباری بردیم. (اساس - اثاث)

ب) مادرم کیک را در ..... ریخت. (قالب - غالب)

ج) من کتاب داستانی در مورد موجودات عجیب و ..... فضایی خواندم. (غریب - قریب)





## علوم: یادآوری چهارم



۱- جاهای خالی را کامل کنید.

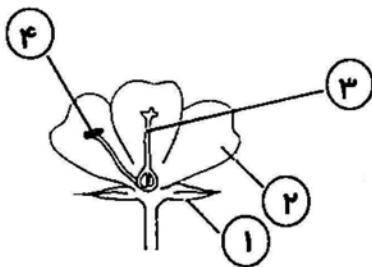
- (الف) به رگ‌هایی که خون را از قلب خارج می‌کنند ..... می‌گویند.  
 (ب) اگر مواد را با هم مخلوط کنیم و خواص آن تغییر کند ..... ایجاد می‌شود.  
 (ج) در اتو انرژی ..... به انرژی ..... تبدیل می‌شود.

۲- جریان الکتریسته از کدام یک از مواد زیر عبور می‌کند؟

- (الف) کاغذ  (ب) سیم فلزی  (ج) پارچه  (د) شیشه

۳- کدام یک از موجودات زیر با بقیه متفاوت است؟

- (الف) کرم خاکی  (ب) پروانه  (ج) خرخاکی  (د) لاک‌پشت



۴- قسمت‌های مشخص شده روی شکل را نام گذاری کنید.

- (۱) .....  
 (۲) .....  
 (۳) .....  
 (۴) .....



## مطالعات اجتماعی: یادآوری چهارم



۱- جاهای خالی را با کلمه‌های مناسب پر کنید.

- (الف) بین جهت‌های اصلی شمال و غرب، جهت فرعی ..... قرار دارد.  
 (ب) مرکز استان کردستان شهر ..... و مرکز استان ..... شهر تبریز است.  
 (ج) آریایی به معنی مردمان ..... و ..... می‌باشد.



۲- چه کسی حکومت هخامنشیان را تشکیل داد؟

- (الف) دیاکو  (ب) کوروش  (ج) داریوش  (د) هخامنش


۳- در کدام ناحیه آب و هوایی دمای هوا در زمستان‌ها معتدل و در تابستان‌ها خیلی گرم است؟

- (الف) گرم و خشک  (ب) کوهستانی  (ج) شرعی سواحل جنوب  (د) ناحیه خزری

۴- تا شگفتی‌هایی که خداوند در وجود شتر قرار داده تا بتواند در ناحیه گرم و خشک زندگی کند را بنویسید.



- ..... ۱-  
 ..... ۲-  
 ..... ۳-



۵- با توجه به تصویر مقابل به سؤال‌ها پاسخ دهید.

- الف) در جهت شرق دختر تصویر، ..... قرار دارد.  
 ب) در جهت ..... دختر تصویر مداد دارد.  
 ج) کتاب در جهت ..... کوه قرار دارد.



هدیه‌های آسمان: یادآوری چهارم




۱- جاهای خالی را با کلمه‌های مناسب پر کنید.

- الف) مهم‌ترین مسجد مسلمانان، ..... نام دارد.  
 ب) آرامگاه پیامبر گرامی اسلام در شهر ..... و در نزدیکی مسجد ..... قرار دارد.  
 ج) حاکم عباسی در زمان امام رضا (ع) ..... نام داشت.

۲- در زمان وقوع کدام یک از اتفاقات زیر خواندن نماز آیات واجب نیست؟

- الف) ماه گرفتگی  ب) خورشید گرفتگی  ج) آتش‌سوزی خانه  د) سیل

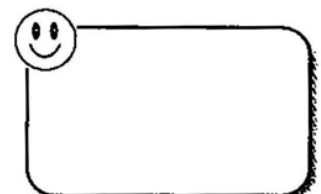
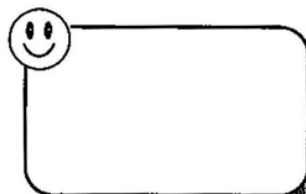
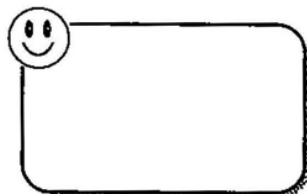


۳- آرامگاه کدام دو امام بزرگوار در شهر کاظمین قرار دارد؟

- الف) امام رضا - امام جواد  ب) امام جواد - امام کاظم   
 ج) امام رضا - امام کاظم  د) امام صادق - امام کاظم



۴- در چه مواقعی به جای وضو می‌توانیم تیمم کنیم؟ (۳ مورد)



۵- پاسخ سؤال‌های زیر را در جدول بنویسید.

○ ○ ○	(۱)
○ ○ ○	(۲)
○ ○ ○ ○	(۳)
○ ○ ○ ○	(۴)
○ ○ ○ ○ ○	(۵)
○ ○ ○ ○ ○	(۶)

۱- اولین مسجدی که پیامبر و یارانش در نزدیکی مدینه ساختند.

۲- فرزند امام کاظم (ع)

۳- یکی از لقب‌های امام نهم به معنی سخاوتمند

۴- همسر فرعون

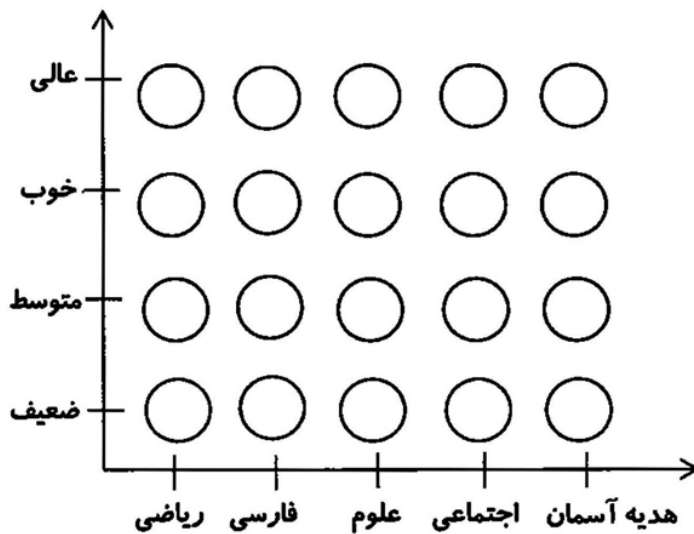
۵- یکی از یاران پیامبر که ایرانی بود.

۶- اولین بانوی مسلمان



### انتظارات آموزشی (والد سنجی)

والدین گرامی، عملکرد فرزند خود را در پاسخ به سوالات کاربرگ هفتگی با رنگ آمیزی نمودار نشان دهید.



پیشنهاد خود را در جهت بهبود عملکرد فرزندان در درس‌هایی که با مشکل روبه‌رو است را در زیر بنویسید.

فرزند عزیزم به تو پیشنهاد می‌کنم که:



پدرت - مادرت

(موفقیت تو آرزوی من است)

۱- .....

۲- .....

# کار برگ مهر ماه (هفته ۲)

تاریخ: .....

نام آموزگار: .....

نام: .....

نام خانوادگی: .....

## کلاس پنجم ابتدایی



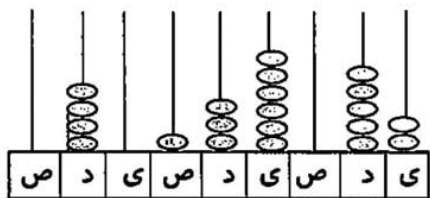
ریاضی: صفحه‌ی (۵ تا)



۱- دانش‌آموزان کلاس پنجم دبستان معرفت، پول‌های زیر را برای جشن عاطفه‌ها کمک کرده‌اند.



این دانش‌آموزان ..... تومان با ..... ریال پول کمک کرده‌اند.



۲- با توجه به چرتکه مقابل به سؤال‌ها پاسخ دهید.

(الف) با رقم بنویسید.

(ب) با حروف بنویسید.

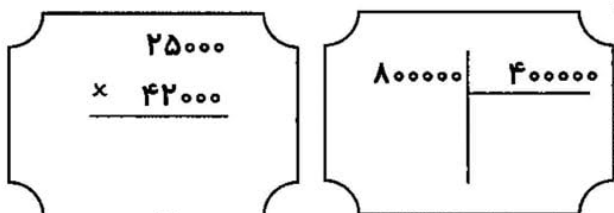
(ج) رقم ۴ در طبقه‌ی ..... و مرتبه‌ی ..... قرار دارد.

۳- هر دو عبارت مربوط به هم را به یکدیگر وصل کنید.

۶۰۳۰۰۲
۷۱۰۰۰
۱۰۱۴۰۰
۷۹۰۰

۱۴ تا ۱۰۰ تایی و ۱۰ تا ۱۰۰۰۰ تایی می‌شود
۹۰۰ تا بیش‌تر از ۷ تا ۱۰۰۰ تایی
۶ تا صد هزار تایی و ۳ تا هزار تایی و ۲ تا یکی
۹ تا هزار تایی کم‌تر از ۸۰ تا ۱۰۰۰ تایی

۴- حاصل ضرب و تقسیم‌های داده شده را به دست آورید.



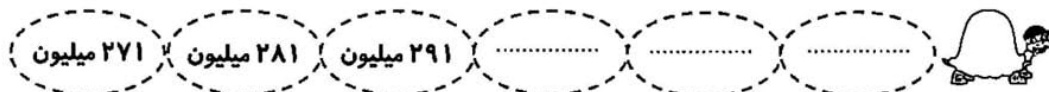
$$4000 \times 700 =$$

$$29 \times 456 =$$

$$18000 \div 90 =$$

$$2295 \div 27 =$$

۵- الگوهای زیر را ادامه دهید.



۶- جاهای خالی را کامل کنید.

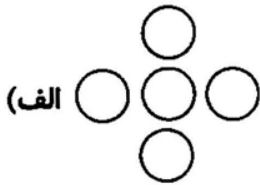
میلیون			هزار			یکی		
ص	د	ی	ص	د	ی	ص	د	ی
			۷	۱	۴	۰	۹	۰
	۷	۱	۴	۰	۹	۰	۰	۰

) ×.....

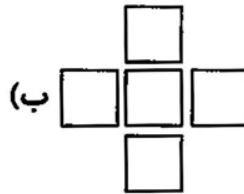
کج وقتی عددی را در ..... ضرب می‌کنیم ارزش هر رقم در آن، ..... مرتبه ..... می‌شود.

۷- عددهای ۲، ۳، ۴، ۵، ۶ را در خانه‌های شکل‌های زیر قرار دهید که مجموع عددهای خانه‌های افقی و عمودی

بهم برابر باشند.



مجموع عددها ۱۱ شود.



مجموع عددها ۱۳ شود.



### فارسی: درس ۱



۱- با توجه به متن درس تماشاخانه، جاهای خالی را با کلمه‌های مناسب پر کنید.

(الف) ..... در طبیعت و ..... درباره‌ی چیزهایی که هر روز می‌بینیم راه مناسبی برای شناخت آن‌ها است.



(ب) عالم ..... شگفتی‌های آفرینش است.

(ج) آیا می‌توان صدای ..... را که در زیر زمین می‌جنبند را بشنوی؟

(د) جهان سرشار از پدیده‌های ..... ، زیبا و ..... است که به سادگی از کنارشان می‌گذریم.

۲- معنی کلمه‌های داده شده را از جدول پیدا کرده و رنگ کنید.

مکث	تصویر	آبگیر	فکر کردن
گریان	صخره	بزرگ	اندیشه
تکیه	صدای بلند	نوشته شده	سنگلاخ

نگاشته

تالاب

درنگ

سنگ بزرگ و سخت

تصوّر

تأمل کردن

۳- کلمه‌های درهم ریخته را مرتب کرده و جمله‌ی زیبا بسازید.

تار   می‌تند   بین   آسمان   زمین   عنکبوت   و



۴- مخالف کلمه‌های داده شده را بنویسید.

روشنایی ≠ ..... تیره ≠ ..... کم، اندک ≠ ..... زیبا ≠ .....



۵- چندتا از آفریده‌های ساکت خدا را نام ببرید.



۶- صدای باران را در ذهن خود تجسم کنید و درباره‌ی آن یک بند بنویسید.

.....  
 .....  
 .....



### علوم: درس اول



۱- جاهای خالی را با کلمه‌های مناسب پر کنید.

- الف) در یک کاوش علمی هرچه ..... را دقیق‌تر اندازه‌گیری کنیم، مشاهده‌ی ما دقیق‌تر خواهد بود.  
 ب) در یک فرفره‌ی چرخان هرچه پهنای بال فرفره بیش‌تر باشد فرفره ..... به زمین می‌رسد.  
 ج) آخرین مرحله‌ی کاوشگری ..... می‌باشد.

۲- اگر حسین بخواهد بداند فرفره با طول بیش‌تر دیرتر به زمین می‌رسد یا فرفره با طول کم‌تر باید به ترتیب چه چیزی را تغییر دهد و چه چیزی را اندازه بگیرد؟

- الف) زمان رسیدن به زمین - طول بال   
 ب) طول بال - زمان رسیدن به زمین   
 ج) پهنای بال - طول بال   
 د) پهنای بال - زمان رسیدن به زمین



۳- نیلوفر امروز هنگام کمک کردن به مادرش در آشپزی با سؤال زیر روبه‌رو شد:

در غذا نخود سریع‌تر پخته می‌شود یا لوبیا؟


فرضیه نیلوفر: به نظر من نخود سریع‌تر پخته می‌شود.

نیلوفر برای آزمایش کردن فرضیه‌ی خود و رسیدن به پاسخ سؤالش:

الف) چه چیزی را اندازه می‌گیرد؟

ب) چه چیزی را تغییر می‌دهد؟

ج) چه چیزی را ثابت نگه می‌دارد؟



۴- می‌خواهیم بدانیم چای در کدام ظرف زودتر خنک می‌شود؟

الف) یک فرضیه بسازید.

فرضیه: به نظر من:

ب) اگر بخواهید فرضیه‌ی خود را آزمایش کنید:

☼ چه چیزی را تغییر می‌دهید؟

☼ چه چیزی را اندازه می‌گیرید؟

☼ چه چیزی را ثابت نگه می‌دارید؟



### مطالعات اجتماعی: درس ۱



۱- جاهای خالی را با کلمه‌های مناسب پر کنید.

الف) مهم‌ترین راه ارتباطی انسان‌ها با یکدیگر ..... است.

ب) محدوده‌ای که هیچ‌کس نباید بدون اجازه و رضایت ما وارد آن شود، ..... نام دارد.

ج) هنگام برقرار کردن ارتباط با دیگران ما ..... ، ..... و نظرات خود را در مورد یک موضوع با آن‌ها در میان می‌گذاریم.

۲- هنگام صحبت کردن با دیگران رعایت کدام مورد ضروری است؟

الف) به شنونده نگاه کنیم.

ب) از کلمات مؤدبانه استفاده کنیم.

ج) برای جلوگیری از اتلاف زمان بسیار تند صحبت کنیم.

د) منظورمان را واضح و روشن بیان کنیم.



۳- ۴ مورد از نکاتی که هنگام گوش دادن به سخن دیگران لازم است رعایت کنیم را بنویسید.

- ..... ۱-
- ..... ۲-
- ..... ۳-
- ..... ۴-



۴- ارتباط غیر کلامی یعنی چه؟ با یک مثال توضیح دهید.

۵- عبارتهای مربوط به هم را هم رنگ کنید.



حفظ نکردن حریم شخصی	پدر در حال تماشای اخبار است اما علی رضا دارد خاطره‌ی اردوی مدرسه را برای او تعریف می‌کند.
عدم انتخاب زمان مناسب گفت و گو	امیر از دوستش سؤال می‌کند پدرت شهریه‌ی کلاس فوتبال را پرداخته است؟
عدم دقت و توجه به سخنان	معلم در حال توضیح دادن یک مسأله ریاضی است، اما مریم با مدادهای داخل جامدادی‌اش بازی می‌کند.



### هدیه‌های آسمان: درس ۱



و قولوا للناس حسناً

۱- با توجه به پیام قرآنی مقابل به سؤال‌های زیر پاسخ دهید.  
الف) معنای پیام قرآنی را بنویسید.

ب) این آیه به چه چیزی اشاره می‌کند؟

۲- جاهای خالی را کامل کنید.



الف) خداوند در قرآن کریم می‌فرماید: بدی را با ..... برطرف کن.  
ب) آخرین سوره‌ای که بر پیامبر فرستاده شد ..... بوده است.  
ج) تین یکی از سوره‌های قرآن است که به معنی ..... می‌باشد.

۳- با توجه به سخن امام علی که می‌فرماید: «قرآن دریایی است که هیچ‌گاه خشک نمی‌شود، ۲ تا از شباهت‌های قرآن و دریا را بنویسید.



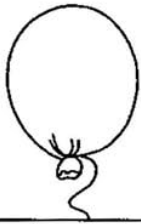
قرآن و دریا	شباهت

۴- طبق آیه‌ی ۱۳۴ سوره‌ی آل عمران نیکوکاران چه کسانی هستند؟

.....

.....

۵- برای هر یک از موارد خواسته شده نام دو سوره را بنویسید.



سوره‌ای به نام حیوانات



سوره‌ای به نام پیامبران



### انتظارات آموزشی (ارزیابی آموزگار)

دانش آموز عزیزم .....

از اینکه توانستی به ..... سوالات پاسخ‌دهی سپاسگزارم.

پیشنهاد می‌کنم برای موفقیت بیشتر:

..... ۱-

..... ۲-

..... ۳-



معلم تو

(موفق باشی)

بازخورد نهایس آموزگار:

# کار برگ مهر ماه (هفته ۳)

تاریخ: .....

نام آموزگار: .....

نام: .....

نام خانوادگی: .....

## کلاس پنجم ابتدایی



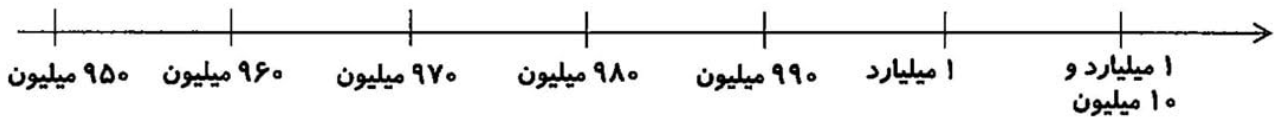
ریاضی: صفحه ۹۵۶



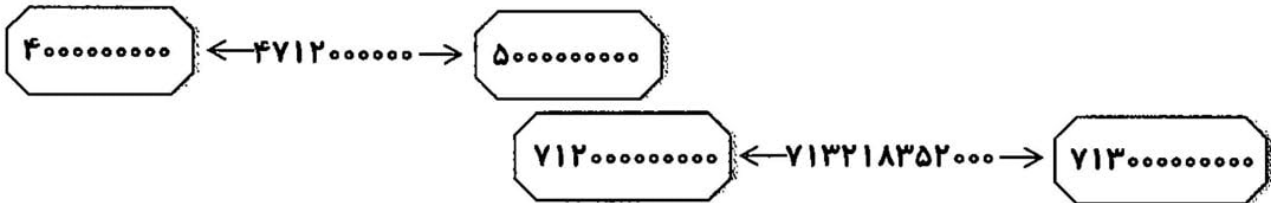
۱- با رقم و حروف بنویسید.

۸۴۰۹۱۷۲۰۰۵	
	دویست و یازده و میلیارد و نه میلیون و هفتاد و سه هزار و نهصد و پنجاه و چهار

۲- محل تقریبی عددهای داده شده را روی محور نشان دهید. (۹۶۰۰۰۰۰۰۰ - ۱۷۵۰۰۰۰۰۰)




۳- عددهای داده شده به کدام عدد نزدیک تر هستند؟ آن را رنگ کنید.



۴- گروهی از خیرین برای ساخت تعدادی مدرسه در روستاهای کشور، مبلغ چهارصد و سی و دو میلیون تومان کمک کرده‌اند. اگر هزینه‌ی ساخت مدارس ۷۱۲ میلیون تومان باشد، چه مقدار دیگر پول نیاز است؟



۵- اگر بخواهیم عدد مقابل را با تقریب صد میلیون بنویسیم کدام گزینه صحیح است؟



- الف) ۲,۳۹۸,۰۰۰,۰۰۰  
 ب) ۲۴,۹۰۰,۰۰۰,۰۰۰  
 ج) ۲۴,۰۰۰,۰۰۰,۰۰۰  
 د) ۲۳,۹۸۴,۱۰۰,۰۰۰

۶- مقایسه کرده و علامت < > = قرار دهید.

۹۷۰۰۲۱۹۰  ۹۷۰۰۰۲۱۹

۳ تا ۲ میلیارد  ثلث ۱۸ میلیارد

۲۰۱۴۳۵۶۱  ۸۱۲۹۵۶۰

۵۰۰ میلیون  ۴ برابر ۱۰۰ میلیون



سی و هشت و میلیارد و دوازده میلیون و نه

۷- با توجه به عدد داده شده کدام گزینه اشتباه است؟

الف) این عدد بین ۳۸ میلیارد و ۳۹ میلیارد قرار دارد.

ب) در مرتبه‌ی دهگان میلیون این عدد رقم ۱ قرار دارد.

ج) در این عدد رقم ۹ دارای بیش‌ترین ارزش مکانی می‌باشد.

د) این عدد ۱۱ رقمی است.

۸- هر بسته کاغذ ۱۰۰ تایی تقریباً ۱ سانتی‌متر ضخامت دارد. اگر ۳ میلیارد برگ کاغذ را روی هم قرار دهیم

ضخامت آن‌ها چقدر می‌شود؟

۹- حاصل عبارت‌های زیر را به دست آورید.

$$\begin{array}{r} ۳۹۵ \text{ میلیون} \\ \times \quad ۵۰ \\ \hline \end{array} \qquad \begin{array}{r} ۱ \text{ میلیارد} \\ - ۴۵۰ \text{ میلیون} \\ \hline \end{array} \qquad \begin{array}{r} ۶۰۰ \text{ میلیون} \\ + ۹۰۰ \text{ میلیون} \\ \hline \end{array}$$

۱۰- یک کارخانه‌ی خودروسازی، روزانه ۱۳۰ خودرو تولید می‌کند. اگر قیمت یک نوع خودروی این کارخانه ۲۰

میلیون تومان باشد، درآمد یک‌ماهه حاصل از فروش این خودرو چه قدر می‌شود؟ (هر ماه را ۳۰ روز در نظر

بگیرید)

۱۱- عدد چهل‌میلیارد و دویست و نود چند رقمی است؟

الف) ۹ رقمی       ب) ۱۰ رقمی       ج) ۱۱ رقمی       د) ۱۲ رقمی



### فارسی؛ درس اول



۱- با توجه به متن درس «تماشاخانه»، جاهای خالی را کامل کنید.





الف) دیدن شگفتی‌های ..... راه مناسبی برای شناخت خداست.

ب) ..... صبحگاهی از آفریده‌های ساکت خداوند است.

ج) در میان ..... علف‌های سبز و لطیفی رویده است که نمونه‌ای از آفرینش جهان است.



۲- هر جمله را بخوانید، سپس آن را کامل کنید.

..... دیروز آسمان ابری بود؛ اما   
..... برای درست کردن نیمرو ابتدا روغن را در تابه می‌ریزیم، سپس   
..... دوستم با چشمان اشکی به من نگاه کرد، چون   
..... خانم معلم کنار تخته رفت و 


۳- معنی و منظور بیت زیر را بنویسید.

هم تو ببخشای و ببخش ای کریم

از پی توست این همه امید و بیم



۴- کلمه‌های هم‌خانواده را هم‌رنگ کنید.



۵- با توجه به شعر «ستایش» و «بخوان و حفظ کن»، رقص باد برای کلمه‌های داده شده، یک کلمه‌ی هم‌آهنگ بنویسید.



۶- با توجه به شعر «رقص باد، خنده‌ی گل، جاهای خالی را پر کنید.

چشمه کم‌کم خشک شد، .....  
..... ناگهان در خواب شد  
..... کرد کوتاه، .....  
..... می‌رود



علوم؛ درس اول



۱- جمله‌های درست را با علامت ✓ و جمله‌های نادرست را با علامت \* مشخص کنید.

- الف) هنگام بررسی اثر طول بال فرفره بر زمان فرود آمدن آن، باید پهنای بال را ثابت نگه داریم.
- ب) پهنای بال فرفره، هیچ تأثیری در زمان رسیدن فرفره به زمین ندارد.
- ج) دانشمندان برای یافتن پاسخ پرسش‌های خود، کاوش می‌کنند.

۲- مریم می گوید چای در لیوان کاغذی سریع تر از لیوان پلاستیکی سرد می شود. او برای آزمایش فرضیه ی خود چه چیزی را باید تغییر دهد؟

- الف) جنس لیوان  ب) دمای چای  ج) زمان خنک شدن چای  د) مقدار چای درون لیوان

۳- مریم خانم می خواهد بداند دخیار بیرون از یخچال بیش تر سالم می ماند یا داخل یخچال،

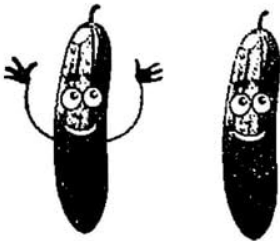
فرضیه ی او: خیار داخل یخچال مدت بیش تری سالم می ماند.

او برای رسیدن به جواب و آزمایش فرضیه خود:

الف) چه چیزی را اندازه می گیرد؟

ب) چه چیزی را تغییر می دهد؟

ج) چه چیزی را ثابت نگه می دارد؟



### مطالعات اجتماعی: درس ۲



۱- کدام یک از ترس های زیر، ترس نابجا است؟

- الف) ترس از مار  ب) ترس از بلندی  ج) ترس از امتحان  د) ترس از تصادف

۲- سه راه برای مقابله با احساس ترس بنویسید.

۱- .....

۲- .....

۳- .....



۳- کدام یک از راه های زیر برای برطرف کردن احساس غم مناسب نیست؟

- الف) دعا کردن برای برطرف شدن این احساس  ب) فکر کردن به علت غم و اندوه   
ج) کمک گرفتن از بزرگ ترها  د) بی توجه بودن به این احساس

۴- اگر ارتباط با دیگران نباشد، انسان دچار چه احساسی می شود؟

- الف) غم  ب) تنهایی  ج) حسرت  د) عصبانیت



۵- هریک از موقعیت‌های زیر، چه حسی را در شما به وجود می‌آورد؟ (وصل کنید).



مادر بزرگتان از دنیا می‌رود.



مادرتان به خاطر موقعیت شما در امتحانات ترم اول برایتان یک هدیه می‌خرد.



برادر کوچکتان وسایل اتاقتان را به هم ریخته است.



یک روز پس از بیدار شدن از خواب متوجه شدید که یک فوتبالیست معروف شده‌اید.



### هدیه‌های آسمان: درس ۱



۱- کدام یک از پیام‌های قرآنی زیر، به برپا کردن نماز اشاره دارد؟



(ب) فَسْتَبْقُوا الْخَيْرَاتِ

(الف) وَ بِالْوَالِدَيْنِ إِحْسَانًا

(د) وَ أَقِمِ الصَّلَاةَ لِذِكْرِي

(ج) وَ قُولُوا لِلنَّاسِ حُسْنًا

۲- این سخن از کدام بزرگوار است؟ (قرآن دریایی است که هیچ‌گاه خشک نمی‌شود. ۱۱۳)

(الف) امام حسن (ع)     (ب) امام علی (ع)     (ج) پیامبر (ص)     (د) حضرت زهرا (س)

۳- نام کدام یک از میوه‌های زیر در قرآن نیامده است؟

(الف) خرما     (ب) انجیر     (ج) انگور     (د) سیب

۴- معنی آیه‌ی ۳۴ سوره‌ی فصلت را کامل کنید.



۵- پاسخ سؤال‌های داده شده را از جدول پیدا کنید و رنگ بزنید.

لیل	حمد	توحید	کوثر	فلق
زلزال	انعام	بقره	ناس	مائده
شمس	یوسف	نور	جمعه	ناس

۱- اولین سوره‌ی قرآن

۲- بلندترین سوره‌ی قرآن

۳- سوره‌ای به نام یکی از روزهای هفته

۴- سوره‌ای به نام یکی از پیامبران

۵- سوره‌ای که در مقام حضرت زهرا(س) نازل شد.



### انتقارات آموزگار (مسال منبر)

دوست عزیزم، ..... جان!

تو توانایی‌های زیادی داری و من خوش‌حالم که توانسته‌ای بیش‌تر سؤال‌های

درس‌های ..... را به درستی حل کنی.

اما اشکالاتی هم در درس‌های ..... داری.

به تو پیشنهاد می‌کنم که:

..... ۱-

..... ۲-

..... ۳-



دوست تو

# کاربرگ مهر ماه (هفته ۴)

تاریخ: .....

نام آموزگار: .....

نام: .....

نام خانوادگی: .....

## کلاس پنجم ابتدایی



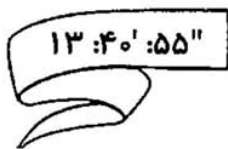
ریاضی: صفحه ۱۰ تا ۱۳





۱- الگوهای عددی زیر را ادامه دهید.

۲:۱۰':۴۰"	۳:۱۰':۴۵"	۴:۱۰':۵۵"			
روز ماه سال ۴ ۸ ۱۰	روز ماه سال ۴ ۹ ۱۲	روز ماه سال ۴ ۱۰ ۱۴			

۲- زمان داده شده را روی ساعت نشان دهید.



۳- حاصل جمع و تفریق‌های زیر را به دست آورید.



۴- قد زهره ۱ متر و ۴۷ سانتی‌متر است. او وقتی کنار درخت توت حیاطشان می‌ایستد، ۲ متر و ۳۵ سانتی‌متر از درخت توت کوتاه‌تر است. ارتفاع درخت را پیدا کنید.



۵- سن پرهام ۶ سال و ۸ ماه و ۱۷ روز است. هنگامی که او به دنیا آمد، پدرش ۲۵ سال و ۷ ماه و ۱۲ روز سن داشت. اکنون پدرش چندسال دارد؟




۶- دو برابر عدد مرکب "۳۱۱": ۵' : ۲۰ چه عددی خواهد شد؟ (آزمون تیمز)

۷- وزن حامد ۵۲ کیلو و ۷۰۰ گرم بود. او با ورزش کردن ۶ کیلو و ۹۰۰ گرم از وزنش را کم کرد. حامد اکنون چند کیلو وزن دارد؟

- الف) ۴۶ کیلو و ۲۰۰ گرم       ب) ۴۵ کیلو و ۲۰۰ گرم
- ج) ۴۵ کیلو و ۸۰۰ گرم       د) ۴۶ کیلو و ۸۰۰ گرم


۸- دو شبانه‌روز قبل از ساعت ۷ بعد از ظهر روز پنج‌شنبه، چه ساعت از چه روز است؟



۱- معنی و منظور بیت زیر را به زبان ساده بنویسید.

ابر، آب داد بیخ درختان مرده را      شاخ برهنه، پیرهن نو بهار کرد


۲- کلمه‌های معنی را به هم وصل کنید.



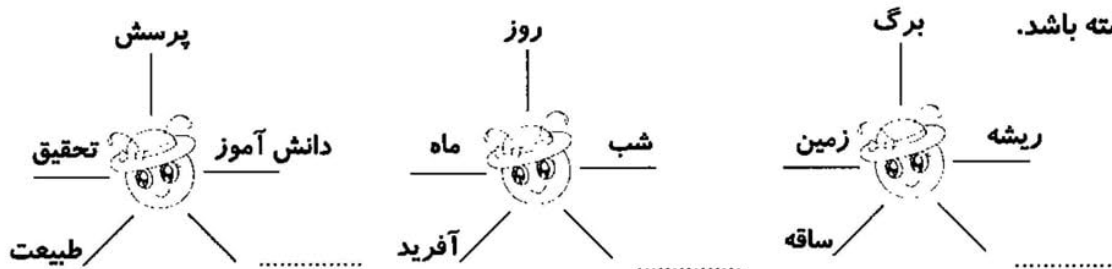
۳- جاهای خالی را با نشانه‌های (: - ! - ? - ,) پر کنید.

مادر بزرگ رو به نوه‌هایش کرد و گفت ○ ○ عجب زمستانی بود ○ ○ محسن پرسید ○ ○ مادر بزرگ کدام زمستان را می‌گوید ○ ○

۴- حروف درهم ریخته را مرتب کنید و واژه‌ی جدید بسازید.



۵- در هر گروه، یک واژه با بقیه فرق دارد. سپس در جای خالی، یک واژه‌ی جدید بنویسید که با چهار واژه‌ی قبل هم‌خوانی داشته باشد.



۶- از روی سرمشق زیر، خوش خط و خوانا بنویسید.

ای همه،ستی ز تو پیدا شده خاک ضعیف از تو توانا شده

از پی تو ست این همه امید و بیم هم تو بیخشی و بخش، ای کریم

علوم؛ درس دوم



- ۱- جاهای خالی را با کلمه‌ی مناسب کامل کنید.
- (الف) در تغییر فیزیکی ..... ماده تغییر نمی‌کند.
- (ب) برخی از تغییرها، مانند سوختن چوب در اجاق یا سوختن چوب کبریت به ..... انجام می‌شوند.
- (ج) در تغییر ..... ماده‌ی اولیه به ماده‌ی جدید تبدیل می‌شود.

نادرست	درست
<input type="checkbox"/>	<input type="checkbox"/>
<input type="checkbox"/>	<input type="checkbox"/>
<input type="checkbox"/>	<input type="checkbox"/>
<input type="checkbox"/>	<input type="checkbox"/>

- ۲- جمله‌های درست را با ✓ و جمله‌های نادرست را با × مشخص کنید.
- (الف) سوختن چوب یک تغییر شیمیایی است.
- (ب) شکر در آب سرد سریع‌تر حل می‌شود.
- (ج) تبخیر آب، یک تغییر فیزیکی است.
- (د) وسایل آهنی در هوای خشک سریع‌تر زنگ می‌زنند.

۳- تغییرات زیر را در دو گروه دسته‌بندی کنید و در جدول بنویسید.



تغییرهای فیزیکی	تغییرهای شیمیایی

شکستن بشقاب - کپک زدن مبربا  
 حل شدن نمک در آب - پریدن نان  
 ترش شدن ماست - ذوب شدن کبره  
 آتو کردن لباس - زنگ زدن آهن



۴- در کدام حالت، در کاغذ تغییر شیمیایی به وجود می‌آید؟

- الف) بریدن کاغذ
- ب) مچاله کردن کاغذ
- ج) سوختن کاغذ
- د) نوشتن روی کاغذ

۵- کدام یک از تغییرهای زیر با بقیه متفاوت است؟

- الف) رسیدن سیب
- ب) کندن زمین با بیل مکانیکی
- ج) صاف کردن جاده با گریدر
- د) آسفالت کردن خیابان



مطالعات اجتماعی: درس ۳



۱- جاهای خالی را با کلمه‌های مناسب پر کنید.

الف) پس از رسیدن به ..... سالگی می‌توانیم با اهدای خون به کسانی که نیازمند خون هستند، کمک کنیم.

ب) در حوادثی مثل سیل و زلزله و تصادف‌های رانندگی، سازمان ..... به کمک مردم می‌آید و به آن‌ها غذا و دارو می‌رساند.

ج) وقتی شرایط و احساسات افراد را در موقعیت‌های مختلف درک می‌کنیم، با آن‌ها ..... کرده‌ایم.

۲- علامت زیر مربوط به کدام مؤسسه است؟ نام آن را بنویسید و در مورد فعالیت آن توضیح دهید.



نام مؤسسه: .....

فعالیت مؤسسه: .....

.....

۳- واژه‌ی زیر را تعریف کنید و برای آن یک مثال بنویسید.

همدلی: .....

مثالی از همدلی: .....

۴- با کمک بزرگ‌ترها، نام دو مؤسسه زیر را که به افراد نیازمند یا افرادی که دچار مشکل شده‌اند کمک می‌کنند،

بنویسید.



نام مؤسسه: .....



نام مؤسسه: .....

۵- کدام یک از وظایف جمعیت هلال احمر نیست؟

- الف) کمک به مجروحان حوادث رانندگی
- ب) رساندن غذا به زلزله زده ها
- ج) گرفتن خون و انتقال آن به بیمارستان
- د) کمک به سیل زده ها



### هدیه های آسمان: درس ۲



۱- جاهای خالی را با کلمه های مناسب پر کنید.

- الف) خداوند در قرآن می فرماید: نشانه های خدا در ..... و در ..... وجود دارد،  
ب) نظم و هماهنگی که در جهان وجود دارد، نشانه ی ..... است.



۲- اگر جهان بیش از یک خدا داشت، چه می شد؟

۳- اگر فاصله ی زمین تا خورشید کم تر از این مقدار بود یا همه ی کره های منظومه ی شمسی روی یک مدار به دور خورشید حرکت می کردند، چه اتفاقی می افتاد؟

۴- کدام یک از ذکرهای زیر، به یگانگی خداوند اشاره دارد؟

- الف) اشهد ان لا اله الا الله
- ب) حی علی الصلاه
- ج) الحمد لله
- د) سبحان ربی العظیم و بحمده

### انتظارات آموزشی (خوردنیها)

ردیف	اهداف و انتظارات آموزشی	عالی	خوب	متوسط	ضعیف
۱	جمع و تفریق و الگوی اعداد مرکب را به درستی انجام می دهم.				
۲	مسئله های اعداد مرکب را درک کرده و با دقت حل می کنم.				
۳	مفهوم بیتها را به زبان ساده می نویسم.				
۴	معنی کلمه های درست را به درستی می نویسم و با حروف درهم ریخته کلمه ی صحیح می سازم.				
۵	علائم نگارشی را به طور صحیح به کار می برم.				
۶	تغییرات شیمیایی و فیزیکی را درک کرده ام.				
۷	با مفهوم همدلی و سازمان هایی که به افراد نیازمند کمک می کنند آشنا شده ام.				
۸	مفهوم یگانگی خداوند و نشانه های وجود خداوند در طبیعت را درک کرده ام.				

نقاط قوت من در حل سوالات کاربرگ:

نقاط ضعف من در حل سوالات کاربرگ:

بازخورد نهایی آموزگار:

## والدین و مریبان گرامی

- محصولی که در دست دارید دارای مجوز نشر و ثبت شده در وزارت فرهنگ و ارشاد اسلامی می‌باشد.
- در صورت کپی برداری، فروش، ارسال، برداشتن لوگو یا انتشار آن برای دیگران، طبق قوانین جرایم رایانه ای با شما برخورد خواهد شد و شما موظف به جبران خسارات وارده به انتشارات مشق آنلاین خواهید بود.
- مریبان و مدارس مجاز به حذف لوگو مشق آنلاین از محصولات **نیستند** لذا می‌توانیم در صورت خرید قانونی از سایت مشق آنلاین، لوگو درخواستی شما را طبق نظر شما به صورت رایگان در محصولات قرار دهیم.



# نمادها و صلاحیت‌ها

