



آینده فرزندان ما را با هم میسازیم

جهت ارتباط با ما کلیک کنید

پشتیبانی لحظه ای محصولات



ورود به سایت مشق آنلاین



اینستاگرام مشق آنلاین



مشق آنلاین

شناسه نشر دیجیتال : ۱۳۴۶۶

مشخصات : کتاب دیجیتال با فرمت PDF

یادداشت

خرید و مشاهده مشخصات اثر به طور انحصاری در سایت:

MashghOnline.ir

ناشر دیجیتال مبتنی بر خط و مبتنی بر حامل های رایانه ای

نام کتاب : (کاربرگ هفتگی کلاس چهارم - مهر ماه)

ناشر : مشق آنلاین

صاحب اثر : سید امیر بنی طبا

شناسه ثبت : 397842

کلیه حقوق چاپ و نشر این اثر برای وب سایت مشق آنلاین محفوظ است.

هیچ شخص حقیقی یا حقوقی حق چاپ یا انتشار تمام یا بخشی از این اثر را ندارد.

انتشارات مشق آنلاین دارای مجوز از وزارت فرهنگ و ارشاد اسلامی به شماره ۱۰۶۵۸۶۹۲۹۷۱۱ و پروانه نشر به شماره ۱۳۴۶۶ میباشد.

متخلفین به موجب بند ۵ از ماده ۲ قانون حمایت از ناشران تحت پیگرد قانونی قرار خواهند گرفت.



نمادها و صلاحیت ها





کاربرگ هفتگی

مهر ماه

کلاس چهارم ابتدایی

به نام خدا

کاربرگ هفتگی

پایه چهارم دبستان

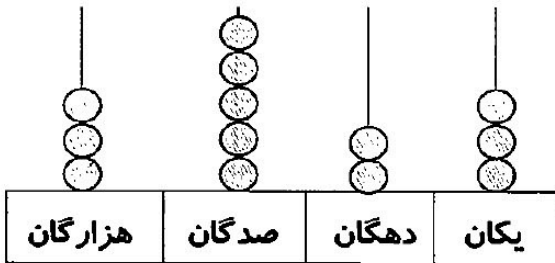
نام:

نام خانوادگی:

کلاس:

مهرماه ۱

ریاضی: یادآوری سوم




۱- با توجه به چرتکه‌ی مقابل، به سؤال‌ها پاسخ دهید.

الف) با رقم:

ب) با حروف:

ج) ارزش مکانی کدام رقم بیش‌تر است؟



۲- الگوهای زیر را ادامه دهید.

عددها ۲ تا ۲ تا زیاد می‌شوند.

$7 \times 5 =$

$20 \times 40 =$

۳- حاصل ضرب و تقسیم‌های زیر را به دست آورید.

$9 \times 6 =$

$80 \times 12 =$

$$\begin{array}{r} 28 \\ \times 9 \\ \hline \end{array}$$

$$\begin{array}{r} 48 \overline{) 7} \\ \hline \end{array}$$

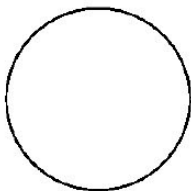


$2 \times 3 \times 4 =$

$18 \div 3 =$

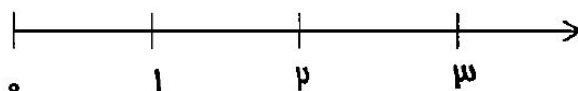
۴- جدول را کامل کنید.

استوانه	مثلث متساوی الاضلاع

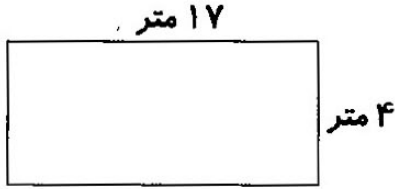


۵- $\frac{2}{5}$ شکل مقابل را رنگ کنید.

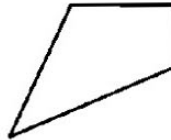
۶- $\frac{1}{3}$ واحد مانده به عدد ۲ را روی محور نشان دهید.



۷- یک مزرعه دار می خواهد دور باغ مستطیل شکل خود را ۲ ردیف سیم خاردار بکشد. او به چند متر سیم خاردار نیاز دارد؟



۸- زاویه های راست را با رنگ قرمز نشان دهید.



فارسی: یادآوری سووم



۱- با کلمه های داده شده، جمله ی زیبا بسازید.

می رفتند:

یواش یواش:

۲- کلمه های داده شده را به صورت جمع بنویسید.



کودک:

تغییر:

درخت:

ی میانجی	_____ ربط
	کتاب سارا

۳- مانند نمونه، جدول را کامل کنید.

حمله دشمن

کتاب سارا

خیابان شلوغ

خانه بزرگ

خنده زیبا



نور خورشید

کنار دیوار

کوچه گل ها



۴- با استفاده از حروف داده شده، ۵ کلمه ی معنی دار بسازید.



۵- موضوع داده شده را به موضوع‌های کوچک‌تر تقسیم کنید و درمورد یکی از آن‌ها به دلخواه، یک بند

بنویسید.

موضوع کلی: زمستان


موضوع‌های کوچک‌تر:

.....

.....

.....

.....



۶- با توجه به کلمه‌های داخل پرانتز، جمله‌ها را تغییر دهید و بنویسید.

✘ زهرا دیروز یک کتاب داستان خرید. (فردا)

✘ ما امروز به شیراز می‌رویم. (سال آینده)

علوه؛ یادآوری سووم



۱- ذوب را تعریف کنید و یک مثال بزنید.








.....

۲- تصویر مقابل چه چیزی را نشان می‌دهد؟ توضیح دهید.



۳- هریک از جانداران زیر، در کدام گروه از مهره‌داران قرار دارند؟

					نام جاندار
					نام گروه



۴- مانند نمونه، مشخص کنید هر کدام، دارای چه ماده‌ی غذایی است؟

گوشت ← پروتئین
قند ←
کره ←
میوه ←



۵- تصویر مقابل، کدام گروه از گیاهان را نشان می‌دهد؟

برگ این درختان چگونه است؟
دانه‌ی این گیاهان در کجا قرار دارد؟



۶- کدام گزینه، پوشش بدن «ماهی، مرغ، مار، را نشان می‌دهد؟

الف) پولک، مو، پشم
ب) مو، پولک، پشم
ج) پولک، پر، پولک
د) پر، پولک، مو

۷- در کدام شکل، نیرو به صورت کشیدن، کدام یک هل دادن و کدام یک هل دادن و کشیدن است؟



.....

.....

.....

مطالعات: یادآوری سوم



۱- روی شکل، جهت‌های اصلی را نشان دهید.



۲- کدام یک از صاحبان شغل‌های زیر، کالا تولید می‌کند؟ کدام یک خدمتی انجام می‌دهد؟ علامت بزنید.

					شغل
					خدماتی
					تولیدی

۳- منابع طبیعی را تعریف کنید.



.....

.....

۴- هر یک از وسایل زیر، از کدام یک از منابع طبیعی تهیه می‌شود؟



وسایل پلاستیکی	مداد	پوشاک	نام کالا
			منبع



۵- نام تابلوهای زیر را بنویسید.



۶- هر تصویر را به عبارت مناسب وصل کنید.



مناطق گرم و خشک

زندگی عشایری

مناطق مرطوب و پر باران

شهر پر جمعیت

هدیه‌های آسمان: یادآوری سوم



۱- جدول قرآنی زیر را حل کنید.

					(۱)
					(۲)
					(۳)
					(۴)
					(۵)

(۱) یکی از سوره‌هایی که در نماز می‌خوانیم.







(۲) عیدی که پس از ماه رمضان می‌آید.

(۳) نام دایه‌ی پیامبر(ص)

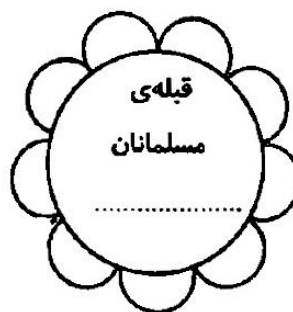
(۴) از لقب‌های امام چهارم(ع)

(۵) نام خواهر امام رضا(ع)



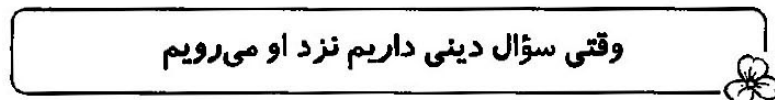




۲- فواید روزه گرفتن را بنویسید. (۳ مورد)



۳- داخل گل‌ها پاسخ مناسب بنویسید.



۴- هر جمله را به کلمه‌ی مربوط به خودش وصل کنید.



انتظارات آموزشی (فوردسنجی):

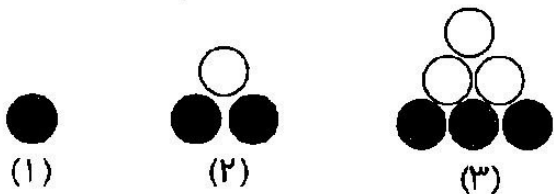
من در پاسخ دادن به سؤال‌های مشکل داشتم و باید آن‌ها را تمرین کنم.



ریاضی: صفحه‌ی ۲ تا ۷



۱- شکل مرحله‌ی هشتم الگوی زیر را رسم کنید.



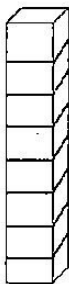
(۸)

۲- الگوهای زیر را ادامه دهید.

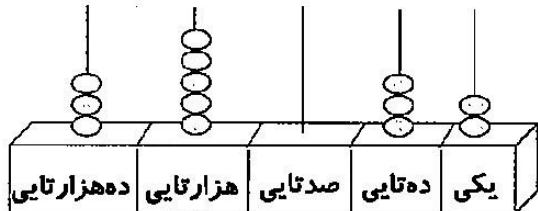


الف) عددهای بالا با چه الگویی زیاد شده‌اند؟
 ب) برای پیدا کردن عدد بعد از ۴۲۰ چه کار کردید؟

۳- هر یک از شکل‌های زیر، چه عددی را نشان می‌دهد؟



با رقم:
 با حروف:



با رقم:
 با حروف:

هزار	
یکان	دهگان
۲	۴

با رقم:
 با حروف:

با رقم:
 با حروف:



۴- عددهای داده شده را به صورت گسترده بنویسید.

۲۸۵۰۰۷ →

۳۴۲۱۹۰ →

۵- کوچک‌ترین و بزرگ‌ترین عدد ۵ رقمی را که با رقم‌های (۳، ۷، ۹، ۰، ۴) می‌توان ساخت، بنویسید.

ک:
 ب:

۶- قیمت لوازم زیر را به ترتیب از کم به زیاد بنویسید و به سؤالها پاسخ دهید.



..... < < < <

الف) قیمت یک شلوار و کوله‌پشتی چند تومان می‌شود؟

ب) قیمت یک پیراهن از قیمت یک کفش چه قدر کم‌تر است؟

۷- مانند نمونه، جاهای خالی را با عدد یا کلمه‌ی مناسب کامل کنید.

الف) ۳۵۹۴۹ یعنی ده‌هزارتا و هزارتا و صدتا و ده‌تا و یکی.

ب) یکی و صدتا و ده‌تا و صدهزارتا و هزارتا می‌شود ۱۰۶۲۸۵

ج) چهل و نه تا هزارتا برابر است با هزار یعنی عدد

۸- چه تفاوتی بین این دو عدد وجود دارد؟

هزار	
ده‌گان	یکان
۸	۲

یکی	
ده‌گان	یکان
۸	۲

.....
.....
.....

فارسی: درس ۱



۱- مفهوم بیت زیر را بنویسید.

برگ درختان سبز در نظر هوشیار هر ورقش دفتری است معرفت کردگار

۲- جمله‌های زیر را بخوانید و معنی کلمه‌هایی را که زیر آن‌ها خط کشیده شده است، بنویسید.

✿ مریم، هنرمند چیره‌دستی است. او دیروز نقاشی زیبایی از یک جنگل کشید که در آن، غوک کوچکی

از پس سبزه‌ها، بیرون می‌پرید.



۳- با حروف درهم ریخته، واژه‌ی مناسب بسازید. سپس با هر واژه، جمله‌ای بنویسید.



(الف) ش-ر-ق



(ب) ع-ز-ر-م-ا

۴- در کدام گزینه، واژه‌ها هم‌خانواده نیستند؟

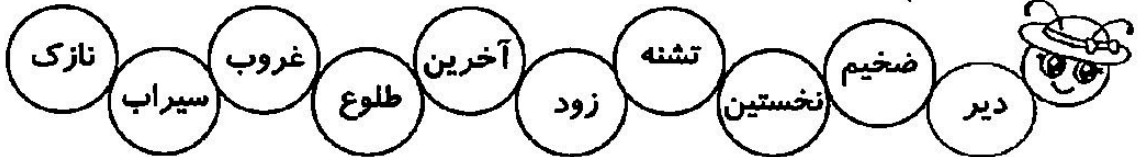
- (الف) نقش، نقاشی (ب) مکتب، کتاب (ج) ناظم، ناظر (د) جمع، مجموع

۵- شاعر شعر «ستایش»، کیست؟

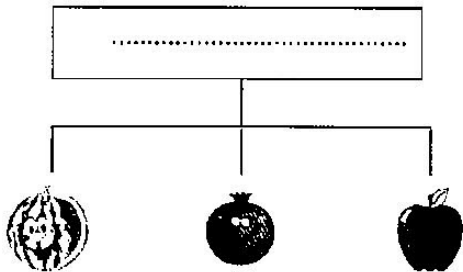


- (الف) مهری ماهوتی (ب) مصطفی رحمان دوست
(ج) شکوه قاسم‌نیا (د) پروین دولت‌آبادی

۶- کلمه‌های مخالف را هم‌رنگ کنید.




۷- برای نمودار داده شده، یک عنوان مناسب انتخاب کنید.



علوه: درس ۱



۱- جاهای خالی را کامل کنید.



- ☞ اگر حباب‌ساز به شکل دایره باشد، حباب‌هایمان
- ☞ اولین کاری که در یک مسئله‌ی علمی باید انجام دهیم، است.
- ☞ دمای آب در لیوانی که روکش تیره دارد، از لیوانی است که روکش روشن دارد.

۲- جمله‌های درست و نادرست را مشخص کنید.

د	ن
<input type="radio"/>	<input type="radio"/>
<input type="radio"/>	<input type="radio"/>

- ☞ بهتر است در فصل تابستان، لباس‌های نازک و روشن بپوشیم.
- ☞ بزرگی هر حباب به میزان هوایی که درون حلقه‌ی حباب‌ساز وارد می‌شود، بستگی دارد.

۳- کسانی که می‌خواهند در فصل تابستان به شهرهای کویری بروند، بهتر است لباس‌های چه رنگی همراه داشته باشند؟ چرا؟



۴- تحقیق کنید چگونه می‌توان حباب‌های رنگی (قرمز، زرد، سبز) درست کرد؟

مطالعات اجتماعی: درس ۱

۱- جاهای خالی را کامل کنید.

◆ نام محله‌ای که مدرسه‌ی شما در آن قرار دارد، است.

◆ مردم برای و به بوستان می‌روند.


◆ در محله نیز مانند خانه و مدرسه، وجود دارد.



۲- محله را تعریف کنید. نام دو محله‌ی شهرتان را بنویسید.



۳- انجام چه کارهایی در ساختمان، موجب آزار همسایه‌ها می‌شود؟



۴- کدام مورد نمی‌تواند نشانه‌ی هم‌دلی و همکاری اعضای محله باشد؟

(ب) کمک به اسباب‌کشی یکی از اعضای محله

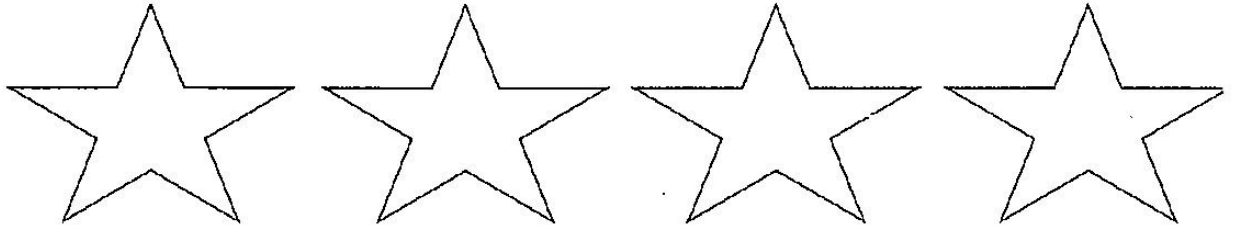
(الف) برگزاری جشن نیمه‌ی شعبان

(د) بی‌توجهی به نظافت محله

(ج) عیادت از همسایه‌ی بیمار




۱- ۴ مورد از نیازهای انسان و جانوران را نام ببرید.



۲- چرا دندان‌های ما شکل‌های مختلفی دارند؟

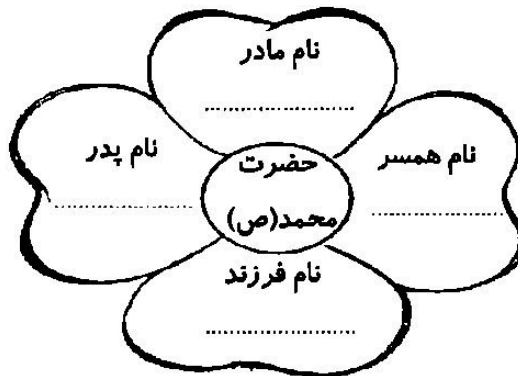


۳- معنی آیه‌ی زیر را بنویسید.



أَنَّ اللَّهَ عَلَىٰ كُلِّ شَيْءٍ قَدِيرٌ وَأَنَّ اللَّهَ قَدْ أَحَاطَ بِكُلِّ شَيْءٍ عِلْمًا
سوره‌ی طلاق آیه‌ی ۱۲

۴- به سؤال‌های داخل گلبه‌گ‌ها که درمورد پیامبر گرامی اسلام (ص) است، پاسخ دهید.



انتظارات آموزشی (فوردسنجی):



من خوش حال هستم، چون توانستم سؤال‌های درس را به تنهایی پاسخ




من در پاسخ به سؤال‌های به کمک نیاز داشتم و باید این سؤالات را بیش‌تر

تمرین کنم.



سرگرمی

✧ تفاوت دو تصویر زیر را پیدا کنید و امتیاز بگیرید.



چند تفاوت پیدا کردی؟

۲۰ امتیاز


تا ۴ تفاوت

۴۰ امتیاز

تا ۸ تا تفاوت

۶۰ امتیاز


بیش تر از ۸ تفاوت

ریاضی: عددنویسی صفحه‌ی ۶ تا ۱۲ 


۱- با رقم و حروف بنویسید.

۲۷۵,۰۴۲

نه صد و پانزده هزار و سه



۲- پول‌های زیر در قلمک فرهاد است. فرهاد چند ریال پول دارد؟



۳- عددی را که هر عبارت نشان می‌دهد، در جدول ارزش مکانی قرار دهید.

هزار					
ص	د	ی	ص	د	ی

$200000 + 50000 + 4000 + 30 + 9 =$

$5 =$ تا یکی و $3 =$ تا 100 تایی و $4 =$ تا 1000 تایی تا 800000 تایی



۴- به مریم در پر کردن جاهای خالی کمک کنید.

⊗ هفت تا ده هزار تا برابر است با: هزار یعنی عدد:

⊗ بیست و نه تا هزار تا برابر است با: هزار یعنی عدد:

⊗ چهارصد و هجده، چند تا هزار است؟

۵- با توجه به عدد مقابل، به سؤال‌ها پاسخ دهید.





⊗ بزرگ‌ترین رقم در چه مرتبه‌ای قرار دارد؟

⊗ در بیش‌ترین مرتبه چه رقمی قرار دارد؟

⊗ رقم ۶ در طبقه‌ی و مرتبه‌ی قرار دارد.



۱- چهار کلمه‌ی جمع از درس پیدا کنید و بنویسید.



۲- کلمات هم‌خانواده را هم رنگ کنید.



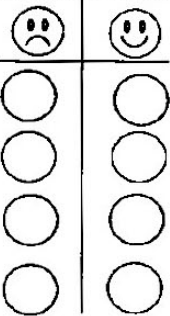
۳- در کدام گزینه، املا‌ی همه‌ی کلمه‌ها درست است؟

(ب) لطیف - تقییر - راه و رسم

(الف) معتدل - غرغی - عقاب

(د) تخم‌گذاری - شاحین - جنب و جوش

(ج) برعهده - طولانی - کمیاب



۴- با توجه به متن «کوچ پرستوها»، درستی یا نادرستی جمله‌ها را مشخص کنید.

✗ هر پرستو دوازده تخم می‌گذارد.

✗ جوجه پرستوها پس از سه هفته به دنبال پدر و مادر خود پرواز می‌کنند.

✗ یکی از مشکلات کوچ پرستوها حمله‌ی پرندگان شکاری است.

✗ با شروع فصل بهار، پرستوها از سفر دور و دراز خود باز می‌گردند.

۵- مفهوم این جمله چیست؟

«پند برای تو مثل پاشیدن دانه در زمینی است که گیاهی در آن رشد نمی‌کند.»



۱- جاهای خالی را کامل کنید.

الف) در فصل تابستان، رنگ‌های برای لباس مناسب است.

ب) دمای آب در لیوانی که روکش دارد، بیش‌تر از لیوانی است که روکش روشن دارد.

ج) حبابی که از یک حلقه‌ی بیضی‌شکل خارج می‌شود، به شکل است.

۲- علی می‌خواهد مرداد ماه به کویر برود. چه لباس‌هایی به او پیشنهاد می‌کنید؟

الف) ضخیم و تیره

ب) ضخیم و روشن

ج) نخی و تیره

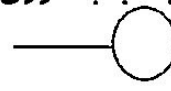
د) نخی و روشن

۳- کدام حباب‌ساز، حباب کروی تولید می‌کند؟

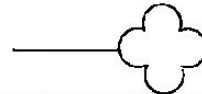


ج)

د) هر سه مورد

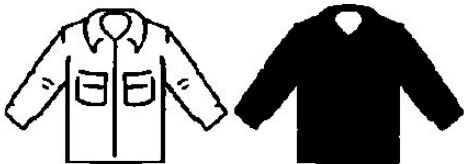


الف)



ب)

۴- اگر جنس لباس‌ها شبیه باشد، کدام یک از لباس‌ها سریع‌تر خشک می‌شود؟ چرا؟



۱- جاهای خالی را با کلمه‌ی مناسب پر کنید.

الف) یکی از محل‌های اجتماع مردم در محله، است.

ب) مردم برای و به بوستان می‌روند.

۲- امام جماعت در هنگام خواندن نماز جماعت در کجا می‌ایستد؟



الف) قبله

ب) پشت سر مردم

ج) محراب

د) کنار مردم

۳- مردم در مسجد، علاوه بر خواندن نماز، چه کارهایی انجام می‌دهند؟ (۴ مورد)



۴-۴ مورد از مکان‌هایی را که معمولاً در محله‌ها می‌توان مشاهده کرد، بنویسید.

--	--	--	--

هدیه‌های آسمان: درس ۱ و ۲



۱- جاهای خالی را با کلمه‌های مناسب پر کنید.

- الف) حضرت موسی (ع) برای مبارزه با و هدایت قوم فرستاده شد.
ب) مادر حضرت موسی (ع)، او را در رود انداخت.
ج) فرعون را به عنوان فرزندخوانده‌ی خود پذیرفت.

۲- جمله‌های درست و نادرست را مشخص کنید.


د	ن
<input type="radio"/>	<input type="radio"/>
<input type="radio"/>	<input type="radio"/>
<input type="radio"/>	<input type="radio"/>

- الف) خداوند در قرآن، آسیه را الگوی مؤمنان معرفی کرده است.
ب) فرعون صندوق حضرت موسی (ع) را از آب گرفت.
ج) خواهر حضرت موسی (ع) به عنوان دایه‌ی ایشان انتخاب شد.

۳- خداوند نیازهای نوزاد به چهار گروه مواد غذایی را چگونه برطرف می‌کند؟



۴- خداوند برای برطرف کردن نیاز ماهی به حرکت، چه چیزی به این حیوان داده است؟



انتظارات آموزشی (همسال سنبل):

دوست عزیزم، تو نقاط قوت زیادی داری، مثل

اما در کمی مشکل داری.

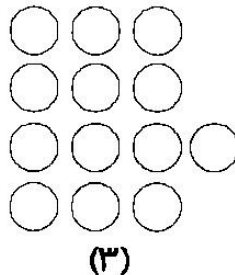
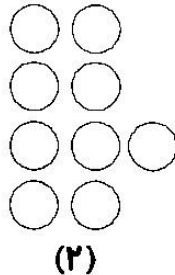
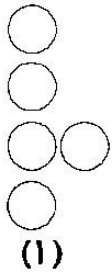
موفق باشی دوست خوبم

لرزیبا آموزگار:

ریاضی: صفحه‌ی (۱ تا ۱۶)



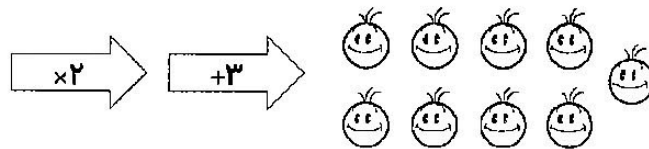
۱- شکل مرحله‌ی هفتم الگوی زیر، با چند دایره درست می‌شود؟ آن را رسم کنید.




؟

(۷)

۲- با توجه به کاری که ماشین انجام می‌دهد، شکل ورودی را رسم کنید.




۳- بزرگ‌ترین و کوچک‌ترین عدد ۶ رقمی را بنویسید که رقم‌هایشان تکراری نباشد و زوج باشند.



۴- عدد داده شده را به صورت گسترده بنویسید.




۲۸۵۰۰۳

۵- الگوهای عددی زیر را ادامه دهید و رابطه‌ی بین عددها را توضیح دهید.





۱- برای هر یک از کلمه‌های زیر، یک هم‌معنی بنویسید.



۲- کلمه‌های درهم‌ریخته را مرتب کنید و یک جمله‌ی زیبا بسازید.




۳- متن زیر را بخوانید و در جاهای خالی، نشانه‌های نگارشی مناسب بگذارید.

موشکا با تعجب گفت ○○ تو هم مثل کوه، خدا را نمی‌شناسی ○○
 پروانه پاسخ داد ○○ البته که می‌شناسم ○○ اوست که این بال‌های قشنگ را به من داده ○ اما او از
 من خیلی زیباتر است ○○

۴- مخالف کلمه‌های داده شده را بنویسید.

طولانی ≠ [] قشنگ ≠ [] خواب ≠ [] وحشی ≠ []

۵- مفهوم ضرب‌المثل «سحر خیز باش تا کامروا شوی»، را بنویسید.





نادرست	درست
<input type="radio"/>	<input type="radio"/>
<input type="radio"/>	<input type="radio"/>
<input type="radio"/>	<input type="radio"/>

۱- جمله های درست و نادرست را مشخص کنید.

- الف) اگر حلقه‌ی حباب‌ساز به شکل مثلث باشد، حباب مثلثی شکل تولید می‌شود.
 ب) بهتر است در فصل سرما از لباس‌های تیره‌رنگ استفاده کنیم.
 ج) لباس‌های نخی و روشن زودتر خشک می‌شوند.

۲- کدام گزینه صحیح است؟



- الف) رنگ‌های تیره، نور را بازتاب می‌کنند.
 ب) رنگ روشن و تیره به یک اندازه نور را جذب می‌کنند.
 ج) رنگ‌های روشن نور را به خوبی جذب می‌کنند.
 د) رنگ تیره نور را بهتر جذب می‌کند.

۳- کدام یک از موارد زیر، محلول است؟

- الف) آجیل ب) روغن در آب ج) ماست و خیار د) قند در آب

۴- کدام مخلوط با بقیه متفاوت است؟



- الف) سنگ در آب ب) روغن در آب
 ج) ماست در آب د) نفت در آب



۱- جاهای خالی را کامل کنید.

- الف) به جدولی که هزینه، پس‌انداز و درآمد را نشان می‌دهد، جدول می‌گویند.
 ب) یکی از اموال عمومی است.
 ج) به پولی که برای خرید کالاهای مورد نیاز خرج می‌کنیم، می‌گوییم.

۲- دستمزد، جزء کدام‌یک از گروه‌های زیر است؟

- الف) هزینه ب) پس‌انداز ج) درآمد د) بودجه

۳- در کدام گزینه، تمام شغل‌ها تولیدی هستند؟

- الف) پزشکی - خیاطی - نانوايي ب) نانوايي - معلمي - خلباني
 ج) نجاري - نانوايي - خياطي د) فروشندي - مهندسي ساختمان - پرستاري

هدیه‌های آسمان: درس ۲



۱- جدول را حل کنید.

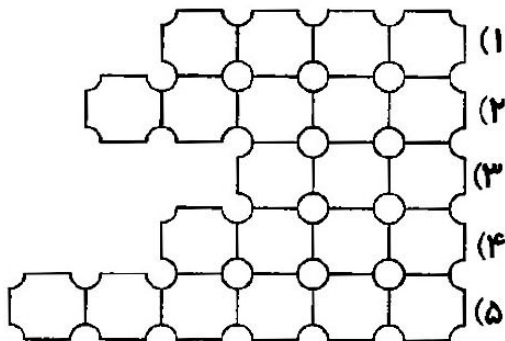
۱- نام همسر فرعون

۲- پادشاه کشور مصر در زمان حضرت موسی (ع)



۳- نام رودی که مادر حضرت موسی، صندوق را در آن انداخت.

۴- دایه‌ی حضرت موسی (ع)

۵- کسی که در مسیر رود نیل، صندوق را دنبال می‌کرد




۲- دو مورد از معجزات حضرت موسی (ع) را بنویسید.



انتظارات آموزشی (والدین):

فرزند عزیزم، خوش‌حالم که در درس‌های سؤال‌هایت را به درستی پاسخ

داده‌ای؛ اما باید در درس‌های تلاش بیش‌تری داشته باشی.



مادرت - پدرت

مربی‌های آموزگار:

والدین و مربیان گرامی

- محصولی که در دست دارید دارای مجوز نشر و ثبت شده در وزارت فرهنگ و ارشاد اسلامی می‌باشد.
- در صورت کپی برداری، فروش، ارسال، برداشتن لوگو یا انتشار آن برای دیگران، طبق قوانین جرایم رایانه ای با شما برخورد خواهد شد و شما موظف به جبران خسارات وارده به انتشارات مشق آنلاین خواهید بود.
- مربیان و مدارس مجاز به حذف لوگو مشق آنلاین از محصولات **نیستند** لذا می‌توانیم در صورت خرید قانونی از سایت مشق آنلاین، لوگو درخواستی شما را طبق نظر شما به صورت رایگان در محصولات قرار دهیم.



نمادها و صلاحیت‌ها

