

نام یا لوگو شما

* مشخصات دانش آموز *

نام:

نام خانوادگی:

نام آموزگار: نام درخواستی شما

سال تحصیل:



فارسی : محله ی ما

۱ از متن درس کلماتی که دارای نشانه های زیر هستند را پیدا کن و بنویس.

ط	ض ض	ح ح	غ غ غ غ
<input type="text"/>	<input type="text"/>	<input type="text"/>	<input type="text"/>
<input type="text"/>	<input type="text"/>	<input type="text"/>	<input type="text"/>

۲ کلمات درهم ریخته ی زیر مرتب کن و جمله بنویس.

رزمندگان اسلام - آبادان - با شجاعت - توانستند - از - دشمنان - آزاد کنند - و تلاش - را - دست

۳ نوشته ی زیر را تا یک بند ادامه بده.

اکنون که به کلاس سوم آمده ام، تصمیم دارم

.....

.....

.....

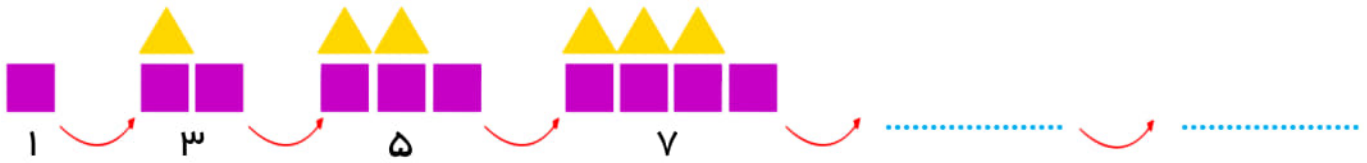
۴ ۵ کلمه ای که تشدید دارند از درس پیدا کن و بنویس.



۵ مخالف کلمات زیر را بنویس.

<input type="text"/>	غایب	<input type="text"/>	شب	<input type="text"/>	راست	<input type="text"/>	دشمن
----------------------	------	----------------------	----	----------------------	------	----------------------	------

۶ الگوی زیر را ادامه دهید.



۱۱۰ - ۱۲۰ - - -

۱۰۱ - ۱۰۲ - - -

۷ یک واگن مترو ۳۰ صندلی دارد.

واگن							
صندلی							

الف) دو واگن مترو چند صندلی دارد؟

ب) چهار واگن مترو چند صندلی دارد؟

ج) هفت واگن مترو چند صندلی دارد؟

۸ الگوهای زیر را ادامه بده و بگو چه رابطه ای بین آنها وجود دارد؟


۱۵۸ - ۲۷۴ - ۳۹۰ - - -

۹ علی روز اول ۳ صفحه از کتاب جدیدش را خواند. روزهای بعدی هر روز ۲ صفحه بیشتر از

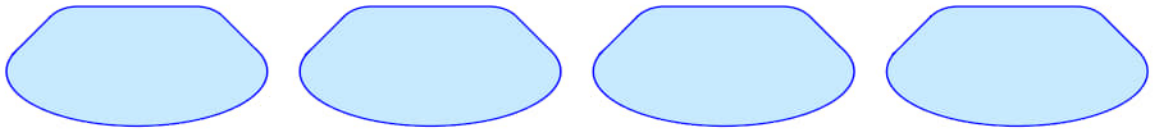
روز قبل مطالعه می کرد. حساب کنید او در ۵ روز، چند صفحه کتاب مطالعه کرده است؟

مطالعات اجتماعی: درس اول

۱۰ برای انجام چه کارهایی به شناسنامه نیاز است؟



۱۱ ۴ مورد از اطلاعاتی که داخل شناسنامه نوشته می شود نام ببرید.



۱۲ چه مشخصاتی از نوزاد زمان تولد او در بیمارستان ثبت می شود؟



علوم: زنگ علوم

۱۳ جاهای خالی را با کلمه ی مناسب کامل کنید.

بهبتر است اول خود را بنویسیم و اطلاعات بدست آمده را کنیم.

با نوشتن اطلاعات در یک می توان آنها را مرتب کرد.

گاهی برای اتفاقی که می افتد دلیل می آوریم و نمیدانیم که درست است یا نه، به این دلیل

..... می گوئیم.

۱۴ برای جمع آوری اطلاعات درباره ی آلودگی هوا، از چه منابعی می توانیم استفاده کنیم؟

۱۵ پژوهشگر پس از جمع آوری اطلاعات چه کاری انجام می دهد؟

هدیه ها و قرآن

۱۶ چرا پسرک دلش برای پیرمرد سوخت؟

- (الف) چون پیرمرد کمرش خم بود.
- (ب) چون پیرمرد دست نداشت.
- (ج) چون پیرمرد پول نداشت.
- (د) چون پیرمرد مریض بود.



۱۷ خداوند در وجود انسان چه نعمت هایی قرار داده است؟ (۴ مورد)

۱۸ برای تشکر از نعمت هایی که خداوند به ما بخشیده است چه کارهایی می توانیم انجام دهیم؟



ارائه ی راهکار

قابل قبول

خوب

خیلی خوب

اهداف و انتظارات آموزشی

ردیف

				آشنایی با املاي کلمات	۱
				مهارت جمله سازی	۲
				آشنایی با کلمات متضاد	۳
				آشنایی با الگویابی و ادامه دادن آن	۴
				حل مسئله به کمک الگویابی	۵
				آشنایی با روش جمع آوری اطلاعات	۶
				آشنایی با مشخصات داخل شناسنامه	۷
				شناخت نعمات خداوند و تشکر بخاطر آنها	۸
					۹

فارسی : کار نیک

۱ جدول های زیر را کامل کن.

ش =	آش	کلمه
		گروه
		نماینده
		چوب دستی

م =	آم	کلمه
		گذشته
		طفل
		ذهن

۲ ترکیب معنادار بساز سپس جمله های خواسته شده را بنویس.

سر

+ درد = جمله برای زمان حال

+ حال = جمله برای زمان گذشته

+ بند = جمله برای زمان آینده

۳ جملات زیر را ترتیب اتفاقات داستان «پری کوچولو» مرتب و شماره بگذار.



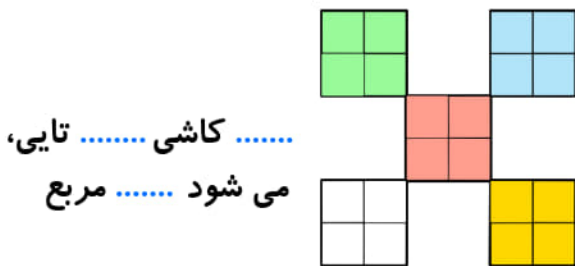
- ۱ یک روز که پری کوچولو با مادرش به زمین آمد، او را گم کرد.
- ۲ پری کوچولو با خوش حالی، نخ رنگین کمان را گرفت و به آسمان رفت.
- ۳ پری کوچولو به گربه گفت: «مادر من هیچ وقت کسی را اذیت نمی کند.»
- ۴ پری کوچولو با مادرش در آسمان زندگی می کرد.

۴ یک ضرب المثل به دلخواهت بنویس.

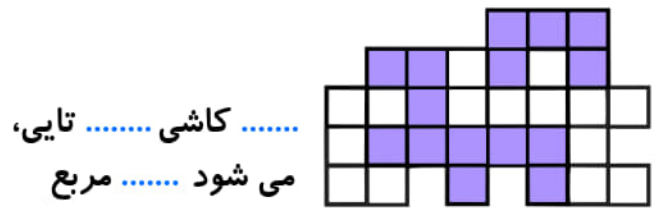
۵ مفهوم جمله ی «دیگران کاشتند و ما خوردیم» چیست؟ در یک بند توضیح دهید.

ریاضی: ضرب و تقسیم

۶ جاهای خالی را با عدد مناسب کامل کنید.




..... کاشی تایی،
می شود مربع



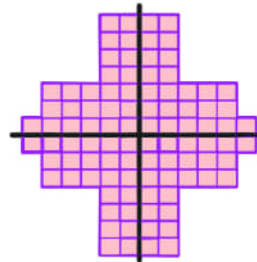
..... کاشی تایی،
می شود مربع

۷ چه عددی را با ۱۳۲ جمع کنیم تا حاصل عدد ۱۵۱۴ شود؟

۸ به کمک خط تقارن، تعداد اشکال زیر را بدست آورید.



..... × =



..... × =

۹ هر کدام از ضرب ها را بصورت جمع و عبارت جمع را بصورت ضرب بنویس.

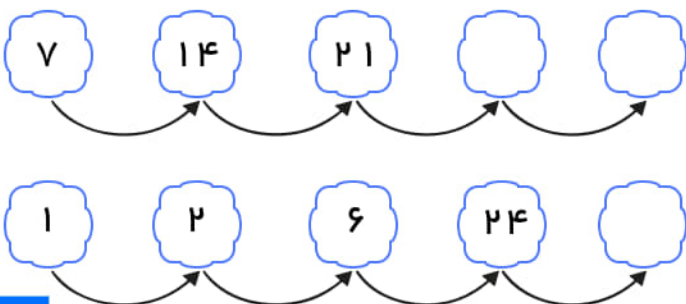
$7 \times 3 = \dots\dots\dots$

$\dots\dots\dots \times \dots\dots\dots = 6 + 6 + 6 + 6 + 6$

$4 \times 9 = \dots\dots\dots$

۱۰ روی هر نیمکت ۳ نفر می نشینند. روی ۹ نیمکت چند نفر می نشینند؟

۱۱ الگوهای شمارش چندتا چندتا را به کمک ضرب پیدا کن و ادامه بده.



مطالعات اجتماعی: درس یازدهم

۱۲ جاهای خالی را کامل کنید.

برای کشاورزی به و نیاز داریم.

لباس ها معمولاً از درست شده اند.

معادن در یا در قرار دارند.

۱۳ به چه چیزهایی منابع طبیعی گفته می شود؟

۱۴ نخ از چه موادی درست می شود؟



علوم: زندگی ما و آب

۱۵ برای جلوگیری از آلوده شده آب، چه پیشنهادی داری؟

۱۶ آب هایی که در هنگام حمام کردن و مسواک زدن مصرف می شوند به کجا می روند؟



۱۷ جاهای خالی را با کلمه مناسب کامل کنید.

..... و از منابع آب های زیر زمینی هستند. 🔍

آب رودخانه از دسته ی آب های است. 🔍

آب سالم و پاکیزه از و توسط به شهرها و روستاها منتقل می شود. 🔍

هدیه ها و قرآن

۱۸ جاهای خالی را با کلمات مناسب کامل کنید.

☆ وقتی می خواهیم با خدا صحبت کنیم باید و باشیم.

☆ ما مسلمانان هر روز نوبت نماز می خوانیم.

☆ دوست داشتنی ترین کارها نزد خداوند است.

۱۸ خداوند به ما دستور داده است پیش از خواندن نماز چه کارهایی انجام دهیم؟



۱۹ ذکر زیر در هر نماز چند بار تکرار می شود؟

«سُبْحَانَ اللَّهِ وَالْحَمْدُ لِلَّهِ وَلَا إِلَهَ إِلَّا اللَّهُ وَاللَّهُ أَكْبَرُ»

ارائه ی راهکار

قابل قبول

خوب

خیلی خوب

اهداف و انتظارات آموزشی

ردیف

۱ آشنایی با ترکیب کلمات

۲ مرور زمان جملات

۳ ادامه دادن الگو به کمک ضرب

۴ انجام ضرب به کمک شکل و جمع

۵ آشنایی با منابع

۶ آشنایی با آب های زیر زمینی

۷ یادگیری نماز

۸

۹