



# آینده فرزندان ما را با هم میسازیم

جهت ارتباط با ما کلیک کنید

پشتیبانی لحظه ای محصولات



ورود به سایت مشق آنلاین



اینستاگرام مشق آنلاین



# مشق آنلاین

شناسه نشر دیجیتال : ۱۳۴۶۶

مشخصات : کتاب دیجیتال با فرمت PDF

یادداشت

خرید و مشاهده مشخصات اثر به طور انحصاری در سایت:

MashghOnline.ir

ناشر دیجیتال مبتنی بر خط و مبتنی بر حامل‌های رایانه‌ای

نام کتاب : (کاربرگ مهر ماه کلاس سوم ابتدایی)

ناشر : مشق آنلاین

صاحب اثر : سید امیر بنی طبا

شناسه ثبت : 397842

کلیه حقوق چاپ و نشر این اثر برای وب سایت مشق آنلاین محفوظ است.

هیچ شخص حقیقی یا حقوقی حق چاپ یا انتشار تمام یا بخشی از این اثر را ندارد.

انتشارات مشق آنلاین دارای مجوز از وزارت فرهنگ و ارشاد اسلامی به شماره ۱۰۶۵۸۶۹۲۹۷۱۱ و پروانه نشر به شماره ۱۳۴۶۶ میباشد.

متخلفین به موجب بند ۵ از ماده ۲ قانون حمایت از ناشران تحت پیگرد قانونی قرار خواهند گرفت.



# نمادها و صلاحیت‌ها





# کاربرگ‌های مهر ماه

کلاس سوم ابتدایی

# کاربرگ مهر ماه (هفته اول)

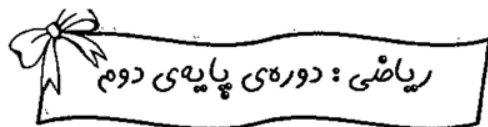
تاریخ: .....

نام آموزگار: .....

نام: .....

نام خانوادگی: .....

## کلاس سوم ابتدایی



۱- چند عدد سه رقمی می‌توان نوشت که رقم یکان آن‌ها ۳ یا ۸ یا ۴ و رقم دهگان آن‌ها ۰ یا ۵ یا ۹ و رقم صدگان آن‌ها ۶ باشد؟

۲- جمع و تفریق زیر را از راه فرآیندی انجام بده.

$$\begin{array}{r} 548 \\ + 326 \\ \hline \end{array}$$



$$\begin{array}{r} 987 \\ - 253 \\ \hline \end{array}$$

۳- سجّاد و امیر در مسابقه‌ی پرش شرکت کرده‌اند. آن‌ها با شنیدن صدای سوت داور، از جایی که ایستاده‌اند، به نزدیک‌ترین ایستگاه می‌پرند.



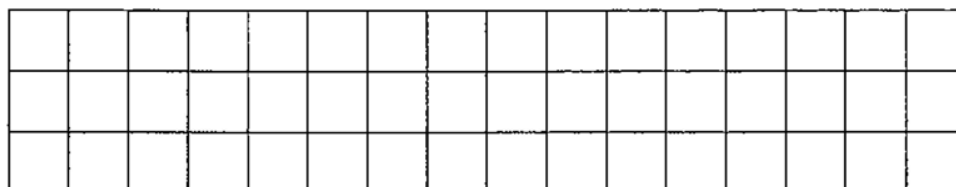
الف) سجّاد روی کدام عدد ایستاده است؟ .....

ب) امیر روی کدام عدد ایستاده است؟ .....

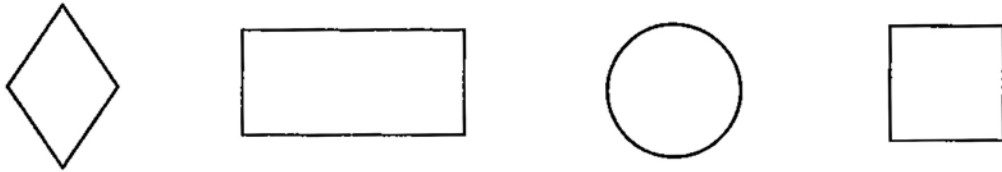
ج) سجّاد به کدام عدد نزدیک‌تر است؟ .....

د) امیر به کدام عدد نزدیک‌تر است؟ .....

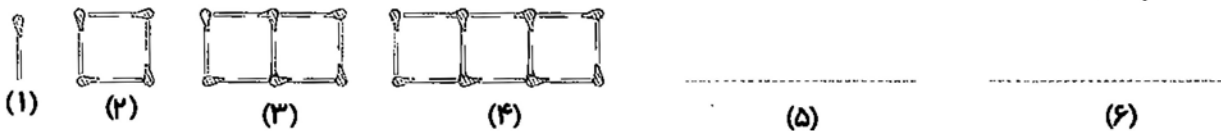
۴- شکل زیر را با چند مربع هشت‌تایی می‌توان پوشاند و چند تا باقی می‌ماند؟ (با رنگ‌ها و طرح‌های متفاوت پوشش بده).



۵- برای شکل‌های زیر، طوری خط تقارن بکش که تقارن چهار قسمتی داشته باشند.



۶- با توجه به الگو و ترتیب قرار گرفتن چوب کبریت‌ها، الگوی ششم با چند چوب کبریت ساخته می‌شود؟  
(آن را رسم کن.)



۷- در جاهای خالی، علامت مناسب قرار بده. ( $<$  =  $>$ )

$$600 - 100 \square 400 + 50 + 50 \quad 600 + 100 + 5 \square 250 + 250 + 200 \quad 841 \square 814$$

۸- یاسین برای خرید یک شلوار ۷۸۰ تومان پول لازم دارد. او ۳۴۰ تومان دارد. یاسین برای خرید این پیراهن چه قدر پول لازم دارد؟

۹- جمع و تفریق زیر را به صورت تقریبی بنویس. (با حذف یکان و دهگان)

$\begin{array}{r} 321 \longrightarrow \dots\dots\dots \\ + 425 \longrightarrow + \dots\dots\dots \\ \hline \dots\dots\dots \end{array}$	$\begin{array}{r} 879 \longrightarrow \dots\dots\dots \\ - 359 \longrightarrow - \dots\dots\dots \\ \hline \dots\dots\dots \end{array}$
---	---

۱۰- اعداد زیر را از کوچک به بزرگ مرتب کن.

$$\left( \begin{array}{c} 732 - 327 - 723 - 273 - 372 - 237 \\ \dots\dots\dots < \dots\dots\dots < \dots\dots\dots < \dots\dots\dots < \dots\dots\dots < \dots\dots\dots \end{array} \right)$$

۱- در یک کیسه، ۸ مهره‌ی بنفش، ۳ مهره‌ی آبی و ۵ مهره‌ی قرمز وجود دارد. کدام جمله نادرست است؟

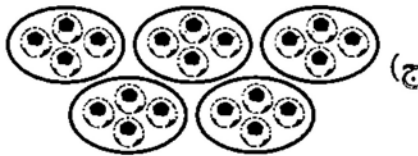
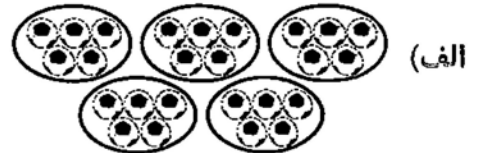


الف) ۳ مهره از ۱۶ مهره، آبی است.

ب) ۸ مهره از ۱۶ مهره، آبی و قرمز است.


ج) ۸ مهره از ۱۵ مهره، بنفش است.

۱۲- کدام یک از شکل‌های زیر، ۵ دسته‌ی ۴ تایی را نشان می‌دهد؟



فارسی: دوره‌ی پایه‌ی دوم

۲- برای هر یک از کلمه‌های داده شده، یک هم‌معنی بنویس.



۲- با حروف درهم ریخته، کلمات مناسب بساز.

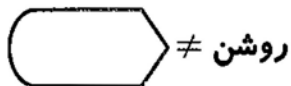
(ن، ح، ص، ت، ی): .....

(و، م، ش، ت، ر): .....

(ت، ا، د، ا، س، ن): .....

(ه، ص، ل، ح، و): .....

۳- مخالف کلمات زیر را بنویس.



۴- کلمه‌ی مناسب را از داخل کمانک انتخاب کن و بنویس.

الف) به کسی که موها را کوتاه می‌کند، ..... می‌گویند. (آرایشگاه - آرایشگر)

ب) به کسی که کاری ندارد، ..... می‌گویند. (پرکار - بی‌کار)

ج) به کسی که صبح زود از خواب بیدار می‌شود، ..... می‌گویند. (سحرخیز - سحرگاه)

۵- با کلمه‌های داده شده، جمله‌ی زیبا بنویس. (هر دو کلمه را در یک جمله به کار ببر).

الف) موقّق - هنرمند : .....

ب) طبیعت - زیبا : .....



۶- کلمه‌ی مناسب را از داخل کمانک انتخاب کن و در جای خالی بنویس.

الف) مبینا فردا به کتاب‌خانه ..... (رفت - خواهد رفت)

ب) احسان و اسماعیل به پارک ..... (خواهند می‌روند - می‌روند)

۷- هر مکان با کدام شهر ارتباط دارد؟ آن‌ها را به هم وصل کن.

آرامگاه سعدی	○
بیستون	○
ارگ بم	○
تخت جمشید	○
کرمان	○
شیراز	○
کرمانشاه	○



۸- کلمه‌ی مناسب را انتخاب کن و در جای خالی بنویس.

الف) طوطی از گنجشک ..... است. (زیباترین - زیباتر)

ب) زرافه قد ..... حیوان جنگل است. (بلندتر - بلندترین)

۹- در کدام گزینه، املاي تمام کلمه‌ها درست است؟

الف) سماق - همله - فاصله  ب) سماغ - حمله - فاصله

ج) سماق - حمله - فاصله  د) سماق - حمله - فاصله

۱۰- دور کلماتی که به آخرشان «ان» نمی‌توان اضافه کرد، خط بکش.



پرنده - گل - دوست - خانه - مرد - کتاب

۱۱- کلمه‌ها را مرتّب کن و یک جمله‌ی کامل و درست بنویس.

(خیابان‌ها - و - رانندگی - نظم - در - مأموران - راهنمایی - و - ترتیب - را - ایجاد می‌کنند)

.....

۱۳- با کلمه‌های «تابستان - فردوسی - زیارت - مسافرت - مشهد، یک داستان کوتاه بنویس.



.....

.....

.....

.....



ارزیابی اولیا :

نظر توصیفی آموزگار :

# کاربرگ مهر ماه (هفته دوم)

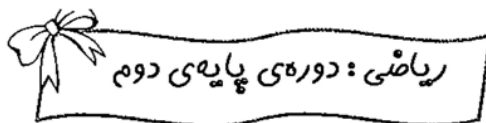
## کلاس سوم ابتدایی

تاریخ: .....

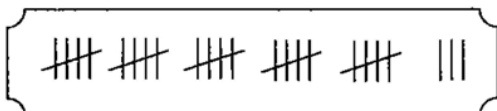
نام آموزگار: .....

نام: .....

نام خانوادگی: .....



۱- اگر  $\text{||||}$  نشان دهنده‌ی عدد ۵۰ باشد، شکل زیر چه عددی را نشان می‌دهد؟



✓ به عدد .....

✓ به حروف .....

۲- کدام الگوی زیر درست است؟

الف) ۴۳۰ - ۴۲۰ - ۴۱۰     ب) ۶۶۷ - ۶۶۸ - ۶۷۰     ج) ۸۳۰ - ۸۲۵ - ۸۱۵

۳- ۳ صدتایی و ۱۰ ده‌تایی و ۷ یکی برابر است با .....

۴- جمله‌ها را با اعداد یا کلمات مناسب کامل کن.

الف) ۳۶۰ ریال برابر است با ..... سکه‌ی صد ریالی و ..... سکه‌ی ده ریالی.

ب) ۵۴۷ برابر است با ۷ ..... و ۴ ده‌تایی و ۵ .....

ج) ۹۲۰ ریال برابر است با ۹۲ سکه‌ی ..... ریالی.

د) ..... برابر است با ۸ صدتایی و ۳ ده‌تایی.



۵- برای این ساعت‌ها عقربه بکش.



۶- عددهای سمت راست را با حذف یکان و عددهای سمت چپ را با حذف یکان و دهگان به طور تقریبی

بنویس.

۷۳۴ → .....    ۴۹۳ → .....    ۲۴۷ → .....    ۸۰۲ → .....

۷- دور عددهایی که از ۷۰۰ بیش تر و از ۸۵۰ کم تر است، خط بکش.



۵۹۳ - ۸۹۵ - ۷۳۲ - ۶۵۰ - ۸۴۱

۸- علامت مناسب بگذار.

۵۳۴ میلی متر  ۵۳ سانتی متر و ۲ میلی متر

۳ دسته‌ی ۶ تایی  ۶ دسته‌ی ۳ تایی

۹۰۰ + ۴۰ + ۷  نهصد و چهل و هفت

۵۲۴ - ۳۷۹  ۲۰۰ + ۴۰ + ۵

۹- جمع و تفریق زیر را از راه گسترده حل کن.

$$\begin{array}{r} 753 \\ + 242 \\ \hline \end{array}$$

$$\begin{array}{r} 302 \\ - 284 \\ \hline \end{array}$$

۱۰- سمیرا ۴۷۸ تومان پول دارد. اگر او ۲۴۹ تومان دیگر از پدرش بگیرد، می‌تواند یک جفت کفش بخرد. قیمت یک جفت کفش چند تومان است؟

۱۱- رضا سه تراش و یک پاک‌کن خرید و ۵۵۰ تومان پرداخت کرد. اگر قیمت هر تراش ۱۰۰ تومان باشد:

الف) قیمت سه تراش چند تومان است؟

ب) قیمت یک پاک‌کن چند تومان است؟



فارسی: دوره‌ی پایه‌ی دوم

۱- قسمت دوم کلمات زیر را بنویس و با آن‌ها جمله بساز.

سر    : .....

زحمت   : .....

خوش    : .....

۲- جمله‌ها را با توجه به کلمه‌های داده شده، تغییر بده.  
😊 من به دوستم احترام می‌گذارم.

(الف) ..... (نازنین)  
(ب) ..... (دوستشان)

۳- مخالف کلمه‌های «همیشه - پیدا - نخستین» به ترتیب کدام است؟

(الف) هر وقت - پنهان - اولین

(ب) هیچ وقت - معلوم - آخرین

(ج) الآن - معلوم - اولین

(د) هرگز - پنهان - آخرین

۴- با حروف در هم ریخته‌ی زیر، کلمه‌ی مناسب بنویس.

(ن - خ - س - گ - و) : .....  
(ر - د - گ - ا - ر - و - پ - ر) : .....

۵- دور کلمه‌هایی که می‌توان به اول آن‌ها «هم، اضافه کرد، خط بکش.



شکل - دایره - نام - وطن - کشور - صحبت

۶- حرف جاافتاده در هر کلمه را بنویس.

میگر... ب : .....  
موا... بت : .....  
اع... ای خا... واده : .....

۷- با کلمه‌ی «شیرین» دو جمله بنویس، به طوری که معنی آن در هر جمله متفاوت باشد.

..... شیرین : .....  
..... شیرین : .....

۸- فایده‌های کتاب خواندن را در دو جمله بنویس.



.....  
.....



۹- درست یا نادرست بودن جمله‌های زیر را مشخص کن.

الف) صدای شرشر آب به گوش می‌رسید.

ب) بلند بلند صحبت کردن خوب است.

ج) ما نباید غذا را تندتند بخوریم.

د) در بهار، پرندگان قطره‌قطره می‌خوانند.

۱۰- در جمله‌های زیر، علامت (؟، !، ،) را در جای مناسب بگذار.

➤ مادرم همیشه می‌گوید ○ ○ باید سحر خیز باشی ○ تا کامروا شوی ○ ○

➤ سلام ○ من همیشه صبح زود بیدار می‌شوم ○ تو این طور فکر نمی‌کنی ○

۱۱- نقطه‌های کلمات را در متن زیر بگذار.

وقتی عند نوروز بردیک می‌سود، همه‌ی خانواده‌ها شروع به خانه‌نکالی می‌کنند.

ما موقع نحویل سال همه‌ی حر را ناکیره می‌کنیم. عند نوروز، آغار فصل بهار است. مردم ایران بر سر

سفره‌ی هفت‌سبب برای همه‌ی دعا می‌کنند.

۱۲- داستان زیر را کامل کن و برای آن، یک اسم مناسب انتخاب کن.



☞ امیرحسین یک کتاب درباره‌ی آدم فضایی‌ها خوانده بود. او در خواب دید که ...

.....

.....

.....

ارزیابی اولیا :


نظر توصیفی آموزگار :





### ریاضی: فصل ۱ (حل مسئله، الگویابی، شمارش چندتا چندتا)

۱- الگوهای زیر را ادامه بده و رابطه‌ی بین عددها را بنویس.



.....


.....

۲- شکل زیر را چند نوع دسته‌بندی کن و با توجه به دسته‌بندی، برای هر کدام جمع بنویس.




دسته‌بندی نوع اول

.....



دسته‌بندی نوع دوم

.....



دسته‌بندی نوع سوم

.....

۳- در الگوی مقابل، تعداد ستاره‌های الگوی پنجم چند تا است؟



.....


۴- حاصل جمع‌ها را ذهنی به دست آور.

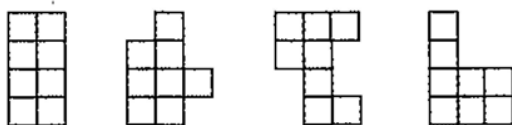
$$7 + 3 + 3 + 5 = \square$$

$$13 + 2 + 7 + 8 = \square$$

$$6 + 4 + 8 + 10 = \square$$

$$14 + 3 + 6 + 5 = \square$$

۵- تعدادی کاشی به شکل  داریم. چند تا از شکل‌های زیر را می‌توان با چسباندن دو تا از این کاشی‌ها ساخت؟ (کانگورو ۲۰۱۲)



۱ (ب)

۰ (الف)

۳ (د)

۲ (ج)

۴ (ه)

۶- یک ساختمان ۵ طبقه ساخته شده است. هر طبقه ۴ واحد و هر واحد ۲ اتاق خواب دارد. با کامل کردن جدول زیر به سؤالات زیر پاسخ بده.

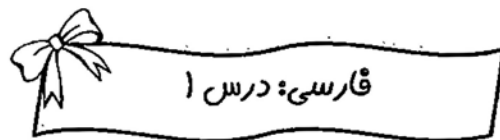
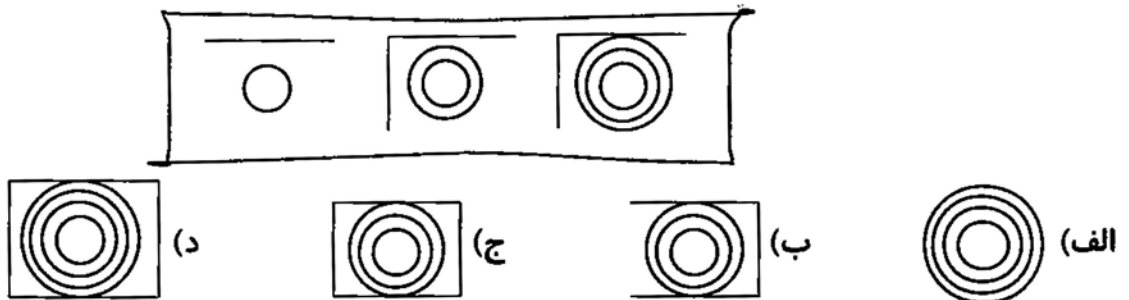
طبقه	۱	۲	۳	۴	۵
واحد	۴				
اتاق خواب	۸				

الف) ۴ طبقه چند اتاق خواب دارد؟ .....

ب) ۵ طبقه چند واحد دارد؟ .....

ج) ۳۲ اتاق خواب تا طبقه‌ی چند است؟ .....

۷- با توجه به الگوی زیر، شکل بعدی، کدام گزینه است؟



۱- کلمات جافتاده در شعر زیر را بنویس.

مهربان ..... خداوندِ ..... مهربان



به نامِ خداوندِ ..... به نامِ خداوندِ

دلی ساده و ..... دلی ساده و

خدا، به ما ..... به ما

۲- با هر یک از کلمات زیر، جمله‌ی زیبا بنویس.

..... : دروازه‌بان

..... : خاطرات

۳- کلمات زیر، با کدام یک از نشانه‌های (ها، ان، ات) جمع بسته می‌شوند؟ بنویس.

جمع کلمه			کلمه
ات	ان	ها	
			موجود
			دوست

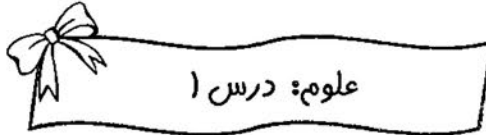
۴- با هر گروه از حروف زیر، کلمات مربوط به هر کدام را بنویس.

..... : (ب، ن، ث، ا، م، ت)

..... : (ت، ا، د، ع)

..... : (س، ق، م، ا، ه، ب)

..... : (ر، گ، ب، ز، ر، ا)



الف) پاسخ صحیح را با علامت x مشخص کن.

۱- اولین کار بعد از طرح سؤال چیست؟

(ب) جمع آوری اطلاعات

الف) مرتب کردن جدول

(د) تهیه جدول

(ج) دادن گزارش

۲- آخرین کار یک پژوهشگر چیست؟

(ب) تهیه پرسش نامه

الف) تهیه جدول

(د) یادداشت برداری

(ج) ارائه گزارش

ب) عبارتهای مربوط به هم را به یکدیگر وصل کن.

متخصص تغذیه

یکی از روشهای جمع آوری اطلاعات است


پرسیدن

در مورد غذای سالم با او مشورت می کنیم

جدول

برای مرتب کردن اطلاعات از آن استفاده کنیم

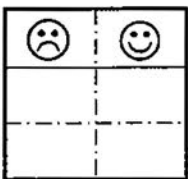
مرتب ورزش



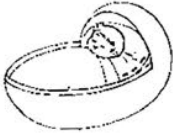
الف) درست یا نادرست بودن جملهها را مشخص کن.

۱- پرستار گفت: «نوزادها تا دوماهگی درست نمی شنوند.»

۲- برای خیلی از کارهای مهم، به شناسنامه نیاز داریم، پس باید در نگهداری آن دقت کنیم.



ب) به سؤالات زیر، پاسخ کامل بده.




۱- چرا کف پای نوزادان را جوهری می‌کنند؟

.....  
.....

۲- داشتن شناسنامه چه فایده‌هایی دارد؟

.....  
.....



الف) در جاهای خالی، کلمات مناسب بنویس.

۱- با ..... دروغ نمی‌گوییم؛ چون زبان، یکی از نعمت‌های خداست، پس باید به درستی از آن استفاده کنیم.

۲- مهم‌ترین نعمتی که خداوند بزرگ به پدر و مادر داده است، ..... است.

۳- باید همیشه و ..... به فکر نعمت‌های خداوند بزرگ باشیم.



ب) کامل کن.

۱- اگر دست‌های من به شکل‌های دیگری بود ...

.....  
.....

۲- اگر لب و زبان نداشتم ...

.....  
.....

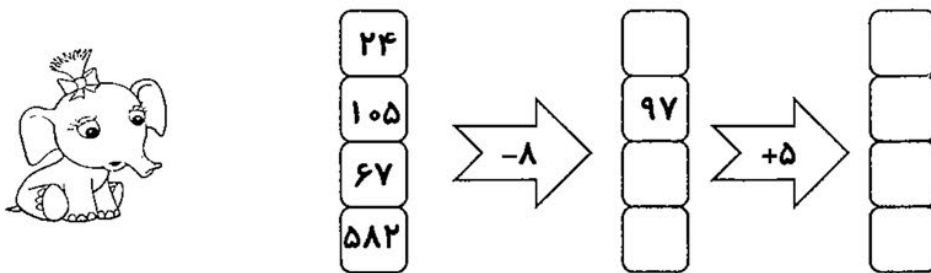


نظر توصیفی خودم (خودسنجی):

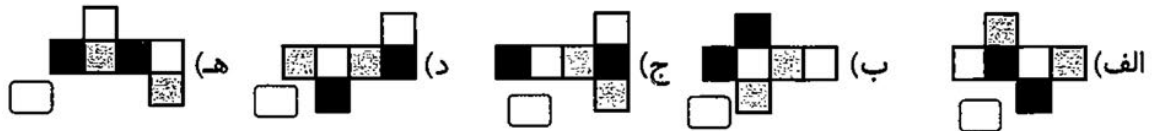
نظر توصیفی آموزگار:

### ریاضی: فصل ۱ (ماشین‌های ورودی - خروجی)

۱- در ماشین زیر، عددهایی به ترتیب وارد شده‌اند. با توجه به کاری که ماشین انجام می‌دهد. عددهای خروجی را بنویس و توضیح بده چگونه این کار انجام می‌شود؟



۲- با سه رنگ، وجه‌های مکعبی را رنگ‌آمیزی کرده‌ایم، به طوری که هر وجه آن، دقیقاً با یکی از رنگ‌ها، رنگ شده و هر دو وجه روبه‌رو هم‌رنگ هستند. با کدام‌یک از شکل‌های زیر می‌توان مکعبی با این خاصیت ساخت؟ (کانگورو ۲۰۱۴)

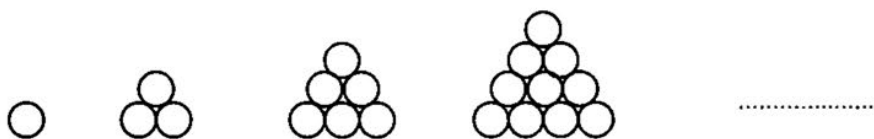


۳- الگوهای شمارش رو به عقب را کامل کن. (می‌توانی از ماشین حساب کمک بگیری.)

- ☺ ..... و ..... و ..... و ..... و ۵۶..... و ۵۸..... و ۶۰.....
- ☺ ..... و ..... و ..... و ۷۴..... و ۷۷..... و ۸۰.....
- ☺ ..... و ..... و ..... و ۹۵..... و ۱۰۰..... و ۱۰۵.....



۴- در الگوی زیر، تعداد دایره‌های شکل بعدی چند تا است؟ آن را بکش.




۵- حاصل جمع‌های زیر را به روش‌های مختلف پیدا کن.

$$۴ + ۸ + ۶ + ۲ + ۳ = \square$$

$$۲ + ۵ + ۸ + ۵ + ۶ = \square$$

۶- در تصویر زیر، مکعب‌ها را رنگ بزن.



فارسی: درس ۱



اذان  
فیروزه‌های  
مغازه‌ها  
خاصی

۱- با استفاده از کلمات داده‌شده، جاهای خالی را پر کن.

آن‌ها از خانه خارج شدند. .... و دکان‌های بسیاری در بازار محلّه دیده می‌شد.

صدای ..... توجه امید را به سمت مسجد جلب کرد. گنبد ..... و گلدسته‌های بلند آن عظمت ..... داشت.


۲- هم‌خانواده‌ی کلمات زیر را بنویس.



۳- شعر زیر سروده‌ی کیست؟

خدایا به ما مهربانی بده      دلی ساده و آسمانی بده

۴- با توجه به تصاویر، یک بند بنویس.




.....  
.....  
.....  
.....  
.....



۵- هر یک از کلمات زیر، شما را به یاد چه چیزهایی می‌اندازد؟

➤ خانواده: .....

➤ فوتبال: .....



الف) مراحل کار یک پژوهشگر برای حل یک مسئله را به ترتیب شماره گذاری کن.

⌘ اطلاعات جمع‌آوری شده را در جدول بنویسید. ( )

⌘ برای تحقیق خود، یک گزارش تهیه و سپس نتیجه‌گیری کنید. ( )

⌘ به جمع‌آوری اطلاعات پردازید. ( )

⌘ یک مسئله (طرح پرسش) برای تحقیق طراحی کنید. ( )


⌘ در نتیجه‌گیری خود، یک راه حل برای تحقیق پیشنهاد دهید. ( )

ب) یکی از دو موضوع زیر را انتخاب کن و به روش کار پژوهشگران، درباره‌ی آن پژوهش کن و به معلم خود ارائه بده. به بهترین و کامل‌ترین پژوهش، امتیاز ویژه داده می‌شود.

۱- دانش‌آموزان از اوقات فراغت خود چگونه استفاده می‌کنند؟



۲- دانش‌آموزان به چه ورزش‌هایی علاقه‌مند هستند؟



الف) در جاهای خالی، کلمات مناسب بنویس.

۱- بلندشدن قد و زیاد شدن وزن، از تغییرات ..... است.

۲- خطی را که نشان می‌دهد هر کاری در چه زمانی انجام شده است، خط ..... می‌نامند.

۳- همه‌ی موجودات زنده ..... می‌کنند و کامل‌تر و بزرگ‌تر می‌شوند.

ب) به سؤالات، پاسخ کامل بده.

۱- از زمان تولد تاکنون چه تغییراتی در شما به وجود آمده است؟ (۳ مورد)

ج)

ب)

الف)

۲- کارهای مهم خود را در جدول زیر بنویس.

فردا	امروز	دیروز
.....	.....	.....
.....	.....	.....
.....	.....	.....



### هدیه‌های آسمان: درس ۱

۱- چگونه از خداوند بزرگ برای این همه نعمتی که به ما داده است، تشکر کنیم؟



۲- خداوند بزرگ دوست دارد چه کارهایی را انجام دهیم و چه کارهایی را انجام ندهیم؟



۳- مهم‌ترین عضو بدن کدام است؟ چرا؟



ارزیابی اولیا :

نظر توصیفی آموزگار :

## والدین و مریبان گرامی

- محصولی که در دست دارید دارای مجوز نشر و ثبت شده در وزارت فرهنگ و ارشاد اسلامی می‌باشد.
- در صورت کپی برداری، فروش، ارسال، برداشتن لوگو یا انتشار آن برای دیگران، طبق قوانین جرایم رایانه ای با شما برخورد خواهد شد و شما موظف به جبران خسارات وارده به انتشارات مشق آنلاین خواهید بود.
- مریبان و مدارس مجاز به حذف لوگو مشق آنلاین از محصولات **نیستند** لذا می‌توانیم در صورت خرید قانونی از سایت مشق آنلاین، لوگو درخواستی شما را طبق نظر شما به صورت رایگان در محصولات قرار دهیم.



# نمادها و صلاحیت‌ها

