



آینده فرزندان ما را با هم میسازیم

جهت ارتباط با ما کلیک کنید

پشتیبانی لحظه ای محصولات



ورود به سایت مشق آنلاین



اینستاگرام مشق آنلاین



مشق آنلاین

شناسه نشر دیجیتال : ۱۳۴۶۶

مشخصات : کتاب دیجیتال با فرمت PDF

یادداشت

خرید و مشاهده مشخصات اثر به طور انحصاری در سایت:

MashghOnline.ir

ناشر دیجیتال مبتنی بر خط و مبتنی بر حامل‌های رایانه‌ای

نام کتاب : (کاربرگ مهر ماه کلاس دوم ابتدایی)

ناشر : مشق آنلاین

صاحب اثر : سید امیر بنی طبا

شناسه ثبت : 397842

کلیه حقوق چاپ و نشر این اثر برای وب سایت مشق آنلاین محفوظ است.

هیچ شخص حقیقی یا حقوقی حق چاپ یا انتشار تمام یا بخشی از این اثر را ندارد.

انتشارات مشق آنلاین دارای مجوز از وزارت فرهنگ و ارشاد اسلامی به شماره ۱۰۶۵۸۶۹۲۹۷۱۱ و پروانه نشر به شماره ۱۳۴۶۶ میباشد.

متخلفین به موجب بند ۵ از ماده ۲ قانون حمایت از ناشران تحت پیگرد قانونی قرار خواهند گرفت.



نمادها و صلاحیت‌ها





کاربرگ‌های مهر ماه

کلاس دوم ابتدایی

کار برگ مهر ماه (هفته اول)

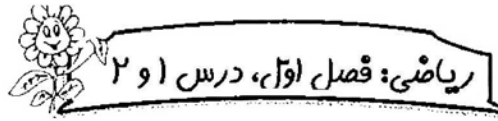
تاریخ:

نام آموزگار:

نام:

نام خانوادگی:

کلاس دوم ابتدایی

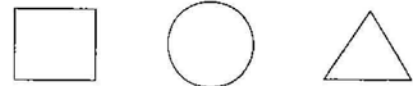



۱- ۷ تا از ستاره‌ها را رنگ کن.

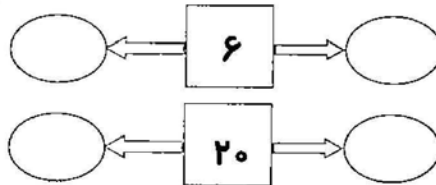
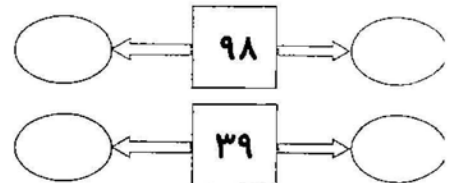
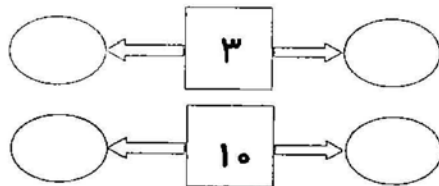


چند ستاره رنگ نشده است؟

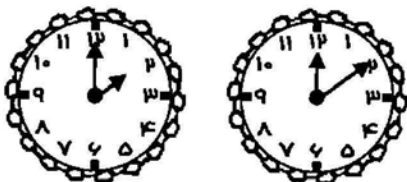
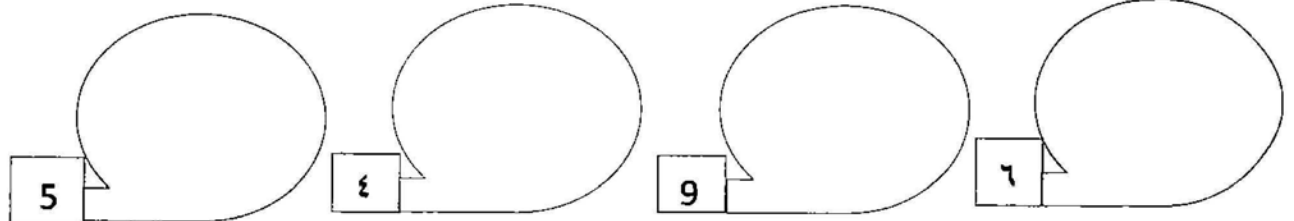
۲- تعداد گل‌ها را در \bigcirc و تعداد پروانه‌ها را در \square و تعداد پرندوها را در \triangle بنویس.



۳- قبل و بعد عددهای داده شده را بنویس.



۴- با توجه به عدد هر دسته، برای آن چوب‌خط بکش.



۵- کدام ساعت، عدد ۲ را نشان می‌دهد؟ آن را رنگ کن.

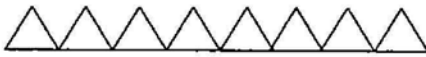
۶- جدول شگفت‌انگیز را حل کن.

۱			
	۲		
۲			۳
	۴		



۷- حدس بزن تعداد کدام شکل‌ها پیش‌تر است و بزن. حالا عدد هر کدام را در جای مناسب، کنار

علامت < بگذار.





<

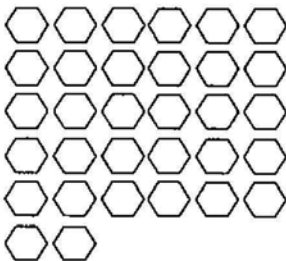


۸- دسته‌بندی کن و سپس در جای خالی، عدد مناسب قرار بده.

یکی ده تایی

به عدد :

به حروف :



۹- در جدول زیر، جاهای خالی را پر کن.

دسته‌ی ده‌تایی	۵ ده‌تایی				۳ ده‌تایی
به عدد:	۵۰		۴۰		۶۰
به حروف:		ده		نود	

۱۰- برای هر کدام، شکل بکش.

پنج ده‌تایی



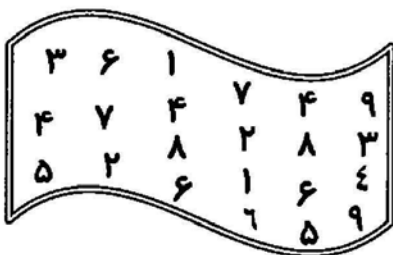
دو ده‌تایی





۱۱- دو تا از رقم‌های ۱ تا ۹ چهار بار آمده‌اند و بقیه دو یا سه بار.

آن رقم‌ها کدامند؟ (ریاضیات کانگورو)



(ب) ۴ و ۶

(الف) ۵ و ۴

(د) ۳ و ۸




(ج) ۶ و ۵



فارسی: یادآوری

- ۱- حروف الفبایی را که یک شکل دارند، بنویس.
 حروف الفبایی را که دو شکل دارند، بنویس.
 حروف الفبایی را که چهار شکل دارند، بنویس.

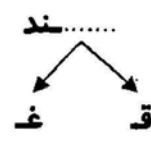
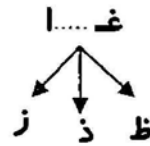
۲- برای هر حرف، چهار کلمه بنویس.



۳- نام چهار چیز را که در جامدادی خود داری، بنویس.

.....

۴- دور حرف درست، خط بکش و آن را در جای خالی بنویس.



۵- در متن زیر، به جای شکل‌ها، کلمه‌ی آن را بنویس و با صدای بلند بخوان. (املائی تصویری)

از پشت ☀️ بیرون آمد و به همه 🌸 سلام کرد. اقا ☾ و ⭐ در آسمان نبودند، شاید خوابیده بودند.

.....

۶- با کلمات زیر، جمله بساز.

..... می‌خوانم: ☞

..... کتاب: ☞

..... زیبا: ☞

..... لبخند معلم: ☞



علوم: درس ۱

۱- پاسخ بده.

☺ با کدام یک از شکل‌های مقابل می‌بینیم؟ آن را رنگ کن.



☺ به آن چه حسی می‌گویند؟

☺ این حس چه کمکی به ما می‌کند؟

۲- برای نوشتن، از چه حس‌هایی کمک می‌گیری؟ ✓ بزن.

لامسه

بویایی

بینایی

چشایی



هدیه‌های آسمانی: درس ۱

۱- در جای خالی، کلمه‌ی مناسب بگذار.

..... شروع می‌کنیم؛ چون او ما است و به ما
اول هر کاری را با
زیادی داده است.

۲- به نظر تو چرا نام کتابت را د هدیه‌های آسمان، گذاشته‌اند؟

.....



املا

جمله‌های زیر را بخوان و نقطه‌ها را بگذار.

ما داس آموزان کلاس دوم هسسم. ما امسال سس کتاب داریم. نام آن‌ها فرآن، رناصی،
فارسى نوسارى و فارسى خوانداری، علوم و هدیه‌های آسمانی است.



نظر توصیفی اولیا :

نظر توصیفی آموزگار :

کاربرگ مهر ماه (هفته دوم)



تاریخ:

نام آموزگار:

نام:

نام خانوادگی:

کلاس دوم ابتدایی



به عدد:

به حروف:

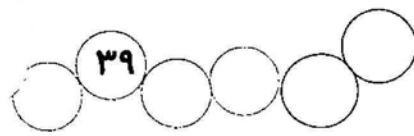
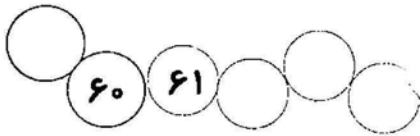
۱- با توجه به شکل، جاهای خالی را کامل کن.



به عدد:

به حروف:

۲- قبل و بعد اعداد را بنویس.



۳- در جای خالی، عدد مناسب بنویس.



😊 با رقم‌های ۳ و ۶ عددهای دو رقمی بنویس. ← و

😊 با رقم‌های و می‌توان عدد ۸۶ را ساخت.

۴- مقابل جمله‌ی نادرست × و مقابل جمله‌ی درست ✓ بزن.

❖ با کارت‌های ۲ و ۵ می‌توان عددهای ۵۵ و ۲۲ را هم ساخت.

❖ با رقم ۸ و ۴ می‌توان چهار عدد دو رقمی ساخت.

❖ عددها از رقم‌ها ساخته می‌شوند.

❖ کوچک‌ترین عدد دو رقمی یازده است.



۵- جملات را بخوان و عدد مناسب بنویس.

یک عدد دو رقمی بنویس که رقم یکان آن ۵ و رقم دهگان آن ۲ تا کم‌تر از یکان آن است.

با کارت ۲ و ۹ چند عدد می‌توان ساخت؟ آن‌ها را بنویس.

عدد دو رقمی را که یکان آن ۴ و رقم دهگان آن ۵ است، بنویس.

یک عدد دو رقمی بنویس که رقم‌های آن تکراری باشد.



۶- در کدام عدد، یکان از دهگان بزرگ‌تر است؟

۲۰

۶۹

۷۴

۸۸

۷- تمام عددهای دو رقمی صفر دار را بنویس.

.....

۸- تمام مثلث‌های \triangle را قرمز و تمام مثلث‌های ∇ را آبی کن.



چند مثلث را قرمز کردی؟

چند مثلث را آبی کردی؟

۹- شکل بکش و بعد حل کن.

من ۹ ستاره قرمز داشتم و ۸ ستاره آبی کشیدم.

من چند ستاره کشیدم؟

۱۰- شش \heartsuit به شکل زیر اضافه کن.



حالا چند \heartsuit داریم؟

۱۱- کدام رقم مربوط به عددهای ۹۸ - ۸۹ - ۹۹ - ۸۹ نیست؟ (آزمون تیمز)

۸ و ۹

۷

۹

۸



فارسی؛ درس ۱






۱- جملات زیر را کامل کن.

بچه‌ها به صورت نشستند.

آموزگار به بچه‌ها گفت:

۲- الف) سه کلمه بنویس که اول آنها «هم» باشد.



ب) عزیزم، با کلماتی که ساختی، جمله بساز.

.....
.....
.....

۳- کلمات را کامل کن.

گفت گو



نم م



کلا ک

۴- چه چیزهایی خواندنی هستند؟ سه مورد بنویس.

۵- از درس «ستایش» پیدا کن و بنویس.

🌀 دو کلمه‌ی بدون نقطه

.....

🌀 دو کلمه که حروفش به هم نچسبیده باشند

.....



علوم: درس ۱

۱- یادداشت برداری چیست؟

.....

۲- چه نکاتی را در یادداشت برداری باید رعایت کنیم؟ (تحقیق کن.)

.....

.....

۳- مریم و مهناز مشاهدات خود را از اردوی بازدید از باغ وحش این طور نوشتند. کدام بهتر است؟ چرا؟

ما ساعت ۹ صبح با اتوبوس آبی به باغ وحش رسیدیم. در آن جا حیواناتی مانند خرس، میمون، شیر و یوزپلنگ ایرانی دیدیم. هر یک از آن‌ها غذای مخصوصی می خورد.



امروز به باغ وحش رفتیم. در آن جا حیوانات زیادی بودند.



.....

.....



هدیه‌های آسمان: درس ۲

۱- وظیفه‌ی ما در مقابل نعمت‌هایی که خدا به ما داده است، چیست؟

.....



۲- عزیز دلبندم، دوست داری چه وقتی با خدای مهربان صحبت کنی؟

.....



املا

۱- با توجه به متن درس کتابخانه‌ی کلاس ما، جاهای خالی را پر کن و ترکیب‌های مناسب بساز.

..... کتاب‌های نماینده‌ی مدرسه‌ی کتابخانه‌ی
..... صدای داخل وارد باد
..... مجله‌های پرسش‌های کلاس پاییزی

۲- دانش‌آموز باهوشم، متن درس کتابخانه‌ی کلاس ما، را بادقت بخوان و کلماتی که نشانه‌های زیر را دارند، انتخاب کن و بنویس.

	ا		ط
	ها		ظ
	خ		ص
	ق		ح
	خوا		ذ
	ع		غ

نظر توصیفی اولیا :

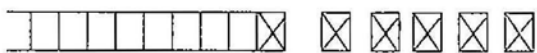


نظر توصیفی آموزگار :



ریاضی: فصل اول، درس ۵ و ۶

۱- برای این شکل، یک مسئله بنویس.



۲- ۱۲ چراغ آبی است و ۱۹ چراغ قرمز. روی هم چند چراغ داریم؟

۳- عددهای محور را کامل کن.



حالا برای $7 + 8 = \dots$ یک مسئله بنویس و با کمک محور بالا، آن را حل کن.



۴- کتاب مبینا ۳۶ صفحه دارد. اگر مبینا امروز ۱۲ صفحه بخواند،

چند صفحه باقی می ماند؟ (از هر روشی که می خواهی حل کن.)

۵- تفریق های زیر را با رسم شکل حل کن.

$$11 - 6 =$$

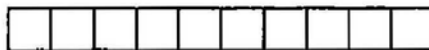
$$12 - 8 =$$

$$14 - 5 =$$

$$8 - 4 =$$

۶- حاصل جمع ها را با اضافه کردن مربع ها و رنگ آمیزی نشان بده.



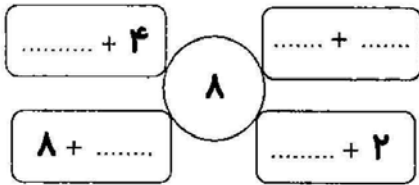
$$5 + 8 + 4 =$$



$$2 + 5 + 7 + 6 =$$



۱۳- در جاهای خالی چه عددهای بنویسیم که حاصل جمع ۸ شود؟



۱- با گذاشتن نقطه، کلمه‌های مختلف بساز که هر یک معنی داشته باشند.

کک - کک - کک

نار - نار - نار

۲- در درس «مسجد محله‌ی ما» بگرد و کلمات مناسب را که نشانه‌های زیر را دارند، پیدا کن و در جدول بنویس.

	ای پی		ح		ع ع ع
	پی		ـ		ض ض

۳- جملات زیر را کامل کن.



- مردم در مسجد، نماز جماعت
- یعنی کسی که حجاب دارد.
- مسجد محله‌ی ما کلاس‌های
- من از این که باسواد هستم،
- به کسی که ادب دارد، می‌گویند.

۴- پاسخ بده.

- 😊 چرا آن روز مردم در مسجد جمع شده بودند؟
- 😊 به کسی که مردم در مسجد، پشت سرش نماز می‌خوانند چه می‌گویند؟
- 😊 به کسی که در کارهایش نظم دارد، می‌گویند و به کسی که در کارهایش دقت دارد، می‌گویند.



علوم: درس ۲

۱- آب چگونه آلوده می‌شود؟

.....
.....

۲- جملات را کامل کن.



..... اگر به گیاهان آب آلوده بدهیم،
..... اگر حیوانات آب آلوده بخورند،



هدیه‌های آسمانی: درس ۲



۱- به نظر شما، بهترین هدیه‌ی خداوند چیست؟

۲- آیا می‌توان گفت: دمن از این هدیه‌ی خدا خوشم نمی‌آید؟ چرا؟



املا

در جای خالی، کلمه‌ی مناسب بگذار.

در مسجد مردم نماز را به می‌خوانند. آنها پشت سر روحانی که به آن می‌گویند،
می‌ایستند. نمازگزاران در مرتب و با کنار هم می‌ایستند و هماهنگ با یکدیگر
نماز می‌خوانند. کارهای مسجد را همه با و هم‌فکری انجام می‌دهند.



نظر توصیفی اولیا :

نظر توصیفی آموزگار :

کاربرگ مهر ماه (هفته چهارم)

تاریخ:

نام آموزگار:

نام:

نام خانوادگی:

کلاس دوم ابتدایی




ریاضی: مرور فصل اول

۱- رسم این شکل را تا طبقه‌ی چهارم ادامه بده و با کمک آن، الگوی عددی را کامل کن.



..... و و و ۴

۲- الگوی عددی ۱۵ - ۱۲ - ۹ - ۶ - ۳ را روی محور نشان بده. این الگو چندتا چندتا جلو رفته است؟



۳- برای جمع‌های زیر، شکل بکش، سپس حاصل آن‌ها را بنویس. (چینه، چرتکه، چوب‌خط)

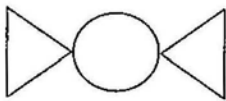
$$۴ + ۹ + ۶ = \dots\dots\dots$$

$$۶ + ۱۱ = \dots\dots\dots$$

$$۶ + ۵ + ۸ = \dots\dots\dots$$

$$۵ + ۹ = \dots\dots\dots$$

۴- با دو روش متفاوت، این دو مثلث و دایره را کنار هم قرار بده.



۵- عدد مناسب بنویس.

$$\dots\dots + ۹ = ۱۸$$

$$\dots\dots + ۸ = ۱۴$$

$$۷ + ۵ =$$

$$۱۵ - \dots\dots = ۸$$

$$۱۳ - ۵ =$$

$$۱۴ - ۸ =$$

۶- جمع‌هایی بنویس که حاصل آن‌ها برابر با عدد داده شده باشد.

$$\boxed{\dots\dots + \dots\dots}$$



$$\boxed{\dots\dots + \dots\dots}$$



$$\boxed{\dots\dots + \dots\dots}$$



$$\boxed{\dots\dots + \dots\dots}$$

۷ - اگر هر طبقه‌ی شکل زیر، با ۳ چینه درست شود، به پرسش‌ها پاسخ دهید.

☆ طبقه‌ی دوم چینه دارد.

☆ طبقه‌ی ۱۲ چینه دارد.

☆ طبقه‌ی ۱۸ چینه دارد.

☆ طبقه‌ی دهم چینه دارد.



۸ - پاسخ بده.


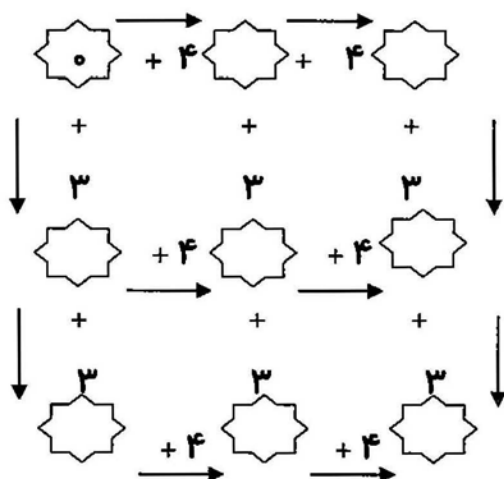
◆ در شمارش ۵ تا ۵ تا، بعد از عدد ۴۵ چه عددی است؟

◆ با رقم‌های ۵ و ۰ و ۲ چند عدد دو رقمی می‌توان ساخت؟

◆ در الگوی ۷ - ۵ - ۳ چند تا چند تا شمارش می‌کنیم؟

◆ در الگوی ۲۴ - ۲۰ - ... قبل از ۲۰ چه عددی قرار می‌گیرد؟

۹ - جاهای خالی را پر کن.



۱۰ - در آسانسوری ۸ نفر سوار بودند. در طبقه‌ی دوم ۴ نفر پیاده شدند،

اما ۶ نفر هم سوار شدند. حالا در این آسانسور چند نفر هستند؟

۱۱ - من چه عددی هستم؟

* یکانم بزرگ‌ترین عدد یک‌رقمی و دهگانم سه تا کم‌تر از یکانم است.

* بزرگ‌ترین عدد ساخته شده با دو کارت ۵ و ۹ هستم.

* عدد یکان و دهگانم مثل هم است، از ۵۰ بیش‌تر و از ۶۰ کم‌ترم.

۱۲ - چند رقم مختلف در شکل دیده می‌شود؟ (مسابقه‌ی کانگورو سال ۲۰۰۵)



(د) ۶

(ج) ۵

(ب) ۴

(الف) ۳



فارسی: درس ۲

۱- دور نشانه‌ی مناسب خط بکش، سپس عبارت درست را در نقطه چین بنویس.



..... نوآموز
مجله ای
ی

..... پرندگان
لانه ای
ی

..... خرید
مجله ای
ی

..... ساخت
لانه ای
ی

۲- مرتب کن.



خواندن - به - دارد - نماز - جماعت - زیادی - ثواب



ما - در - محله‌ی - یک - است - کتابخانه



۳- در جای خالی، کلمه‌ی مناسب بگذار.

ما با برای کلاسمان، یک کتابخانه‌ی کوچک ساختیم.

کار مسجد تمام شده بود.

مردم ما بسیار خوش حال بودند.

من با دقت به حرف‌های

۴- با توجه به نمونه، کلمات زیر را دسته‌بندی کن و در جای مناسب بنویس.

خواب - خود - دوچرخه - خواندم - گروه - نویسنده - محله - ماه

خواهر ← و خورشید ← و

مجله ← و کوه ← و



۵- اگر می‌توانستی به اندازه‌ی مورچه‌ای کوچک شوی، به کجا می‌رفتی و چه می‌کردی؟

.....
.....


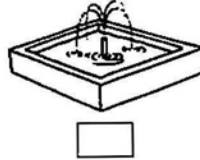
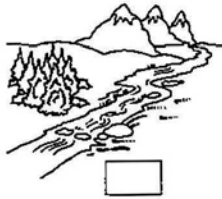


علوم: درس ۲

۱- آیا کرم و مورچه که در زیر خاک زندگی می کنند، به هوا احتیاج ندارند؟ (تحقیق کن.)



۲- آب‌هایی را که برای آشامیدن مناسب است، ✓ بزن.



هدیه‌های آسمان: درس ۳

۱- فکر می کنی چرا خداوند مهربان آرزوهای بچه‌ها را زودتر برآورده می کند؟



۲- به نظر تو بهترین دعا چیست؟ آن را بنویس.



املا

* با توجه به درس کتابخانه‌ی کلاس ما، جدول کلمات زیر را کامل کن.



			م	ج
	س	ا	ی	
	ت	ب		

د			م
ی	د		م
	ا	ی	ح

ض		ح
ف	ر	
د		ب



نظر توصیفی اولیا :

نظر توصیفی دوستم :

والدین و مریبان گرامی

- محصولی که در دست دارید دارای مجوز نشر و ثبت شده در وزارت فرهنگ و ارشاد اسلامی می‌باشد.
- در صورت کپی برداری، فروش، ارسال، برداشتن لوگو یا انتشار آن برای دیگران، طبق قوانین جرایم رایانه ای با شما برخورد خواهد شد و شما موظف به جبران خسارات وارده به انتشارات مشق آنلاین خواهید بود.
- مریبان و مدارس مجاز به حذف لوگو مشق آنلاین از محصولات **نیستند** لذا می‌توانیم در صورت خرید قانونی از سایت مشق آنلاین، لوگو درخواستی شما را طبق نظر شما به صورت رایگان در محصولات قرار دهیم.



نمادها و صلاحیت‌ها

